

نام درس: اقتصاد بخش عمومی (۱)

تعداد سؤال: نسی ۴۰ تکمیلی -- تشریحی --

رشته تحصیلی: گرایش: اقتصاد

زمان امتحان: تستی و تکمیلی ۸۰ دقیقه تشریحی -- دقیقه

کد درس: ۱۲۲۱۰۹۱ - طرح تجميع: ۱۲۲۱۱۲۵

تعداد کل صفحات: ۷

\* استفاده از ماشین حساب مجاز است.

۱. کدام گزینه در خصوص وظایف دولت از نظر اسمیت صحیح است؟
  - الف. تولید کالاهای ضروری
  - ب. تولید خدمات مورد نیاز جامعه
  - ج. تأمین وسایل حمل و نقل بین شهری
  - د. تولید کالاهای عمومی
۲. بر اساس نظریات جدید با فرض معلوم بودن ترجیحات مصرف کنندگان برای رسیدن به حداکثر رفاه برای هر فرد چه عملی باید انجام گیرد؟
  - الف. باید مطلوبیت نهائی برابر قیمت قرار گیرد.
  - ب. در مورد کالای خصوصی باید مطلوبیت نهائی بیشتر از قیمت قرار گیرد.
  - ج. کالاهای عمومی بیشتری نسبت به کالای خصوصی تولید کرد.
  - د. تولید کالاهای عمومی بر اساس معیار قیمت‌های بازار تولید گردد.
۳. با داخلی نمودن پیامد خارجی منفی یک فعالیت برای رسیدن به سطح کارآیی .....
  - الف. تولید کاهش می‌یابد.
  - ب. تولید تغییر نمی‌کند.
  - ج. تولید افزایش می‌یابد ولی قیمت کاهش می‌یابد.
  - د. تولید کاهش ولی قیمت تغییری نمی‌کند.
۴. منظور از تخصیص منابع به عنوان یکی از اهداف اقتصادی دولت چیست؟
  - الف. بکارگیری عوامل مورد نیاز در تولید کالاهای عمومی
  - ب. تخصیص منابع اولیه تولید بین تولیدات و خدمات عمومی در بخش عمومی و خصوصی
  - ج. تخصیص کالاهای تولید شده بین افراد مختلف اجتماع
  - د. بکارگیری عوامل مورد نیاز در تولید کالاهای ضروری
۵. جهت تشخیص و تعیین شرایط کارآمد در بخش تولیدی و مصرف کالاها و خدمات چه مفهومی مورد استفاده قرار می‌گیرد؟
  - الف. توزیع درآمد
  - ب. مطلوبیت نهائی
  - ج. بهینه پرتو
  - د. ترجیحات مصرف کنندگان
۶. شرط مصرف کارآمد چیست؟
  - الف. بتوان با توزیع مجدد کالاها و خدمات مطلوبیت یک مصرف کننده را افزایش داد، بدون کاهش مطلوبیت مصرف کننده دیگر.
  - ب. نتوان با توزیع مجدد کالاها و خدمات مطلوبیت یک مصرف کننده را افزایش داد، مگر اینکه حداقل منجر به کاهش مطلوبیت یک مصرف کننده دیگر گردد.
  - ج. بتوان با توزیع مجدد کالاها و خدمات ، مطلوبیت هر دو مصرف کننده را افزایش داد.
  - د. نتوان با توزیع مجدد کالاها و خدمات مطلوبیت هیچ فردی را کاهش داد.

نام درس: اقتصاد بخش عمومی (۱)

تعداد سؤال: ۴۰ تکمیلی -- تشریحی --

رشته تحصیلی: گرایش: اقتصاد

زمان امتحان: تستی و تکمیلی ۸۰ دقیقه تشریحی --

کد درس: ۱۲۲۱۰۹۱ - طرح تجميع: ۱۲۲۱۱۲۵

تعداد کل صفحات: ۷

۷. کدام گزینه در خصوص منحنی امکانات مطلوبیت صحیح است؟

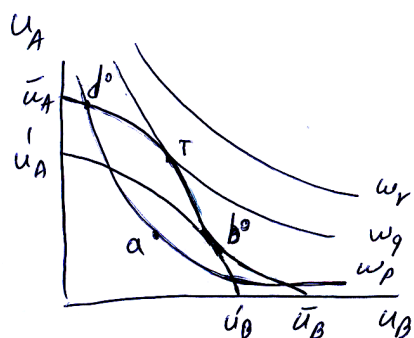
الف. دارای شیب مثبت است.

ب. نسبت به مبدأ مختصات محدب است.

ج. شرایط توزیع کالاها را به طور مستقیم نشان می‌دهد.

د. نقاط روی منحنی، با توجه به نقاط روی منحنی قرار داد به دست آمده‌اند.

۸. با توجه به شکل زیر کدام گزینه صحیح است؟



بازار رقابتی  
منحنی رفاه  
امکانات مطلوبیت

الف. موقعیت‌های  $d^0, T, b^0$  از نقطه نظر کارایی در تولید و مصرف یکسان می‌باشند.

ب. از نظر رفاه اجتماعی، نقطه  $T$  با دیگر نقاط فرق نمی‌کند.

ج. از نقطه نظر کارایی نقطه  $d^0, b^0$  یکسان هستند.

د. از نظر رفاه اجتماعی  $d^0$  بهتر از  $a$  می‌باشد.

۹. در شرایطی که دولت ناچار به توزیع بعضی از کالا باشد کدام گزینه در مورد بازار غیر رسمی صحیح است؟

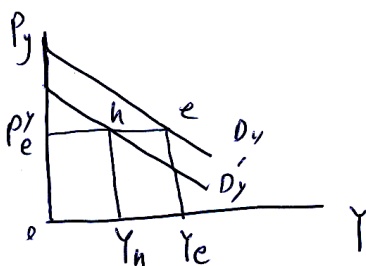
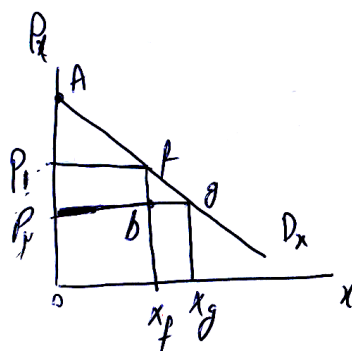
الف. کارایی را کاهش می‌دهد.

ب. خطای توزیع کالاها به وسیله دولت را تا حدی جبران می‌کند.

ج. باعث کاهش رفاه اجتماعی خواهد شد.

د. باعث کاهش کارایی و رفاه جامعه می‌شود.

\* با توجه به شکل زیر به سؤال‌های ۱۰ و ۱۱ پاسخ دهید.



۱۰. اگر قیمت کالای  $x$  برابر  $P_1$  باشد، اضافه رفاه مصرف کنندگان کالای  $x$  چقدر است؟

الف.  $bfg$

ب.  $P_1 P_f g x_g$

ج.  $P_1 A f$

د.  $P_1 f b x_f$

نام درس: اقتصاد بخش عمومی (۱)

تعداد سؤال: نسی ۴۰ تکمیلی -- تشریحی --

رشته تحصیلی: گرایش: اقتصاد

زمان امتحان: تستی و تکمیلی ۸۰ دقیقه تشریحی --

کد درس: ۱۲۲۱۰۹۱ - طرح تجميع: ۱۲۲۱۱۲۵

تعداد کل صفحات: ۷

۱۱. اگر کالای  $x$ ,  $y$  جانشین باشند و قیمت کالای  $x$  از  $P_1$  به  $P_2$  کاهش یابد، تغییرات در اضافه رفاه مصرف کننده چقدر است؟

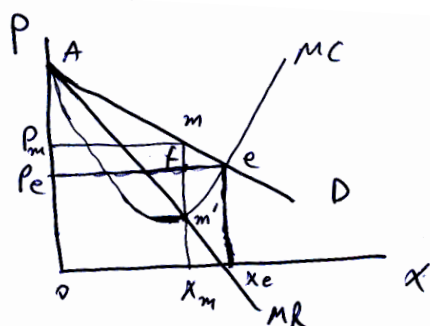
$$\text{ب. } x_f f g x_g - P_e^Y \times \Delta Y$$

$$\text{الف. } x_f f g x_g$$

$$\text{د. } P_1 f A + b f g$$

$$\text{ج. } P_1 f b P_2$$

\* با توجه به نمودار زیر به سؤال‌های ۱۲ و ۱۳ پاسخ دهید.



۱۲. در صورتیکه بنگاه انحصاری با منحنی تقاضای فوق روبرو باشد. اضافه رفاه مصرف کنندگان چقدر است؟

$$\text{د. } O P_m m x_m$$

$$\text{ج. } O A m x_m$$

$$\text{ب. } P_m m A$$

$$\text{الف. } P_e A e$$

۱۳. در صورت حذف شرایط انحصاری فایده خالص اجتماعی چقدر است؟

$$\text{ب. } x_m m e x_e$$

$$\text{الف. } m e m'$$

$$\text{د. } m f P_e P_x$$

$$\text{ج. } x_m f e x_e$$

۱۴. کدام گزینه در خصوص اقتصاد بازار و توزیع درآمد صحیح نیست؟

الف. توزیع درآمد از طریق عرضه عوامل تولید مشخص می‌شود.

ب. توزیع درآمد حاصل از کار به توزیع توانائی کسب درآمد بستگی دارد.

ج. قیمت عوامل تولید برابر است با ارزش تولید متوسط آنها

د. علاوه بر درآمد حاصل از کار ساده، توزیع درآمد با سرمایه‌گذاری در تحصیلات نیز رابطه دارد.

۱۵. در معیار پرتو حرکت از یک وضعیت به وضعیت جدید را ..... می‌پندارند، اگر در ازای افزایش مطلوبیت یکی حداقل

مطلوبیت دیگری.....

ب. بهینه - افزایش نیابد.

الف. بهبود - کاهش نیابد.

د. بهینه - افزایش یابد.

ج. بهبود - کاهش یابد.

نام درس: اقتصاد بخش عمومی (۱)

تعداد سؤال: ۴۰ تکمیلی -- تشریحی --

رشته تحصیلی: گرایش: اقتصاد

زمان امتحان: تستی و تکمیلی ۸۰ دقیقه تشریحی --

کد درس: ۱۲۲۱۰۹۱ - طرح تجميع: ۱۲۲۱۱۲۵

تعداد کل صفحات: ۷

۱۶. کدام گزینه در خصوص منحنی لورنز صحیح تر است؟

الف. هر قدر منحنی لورنز به خطر  $45^\circ$  درجه نزدیکتر باشد توزیع درآمد نابرابرتر است.

ب. هر قدر منحنی لورنز از خطر  $45^\circ$  درجه دورتر باشد توزیع درآمد برابرتر است.

ج. اگر ضریب جینی مساوی یک باشد توزیع کاملاً برابر است.

د. اگر ضریب جینی مساوی صفر باشد توزیع کاملاً برابر است.

۱۷. زمانی تولید کنندگان خصوصی به تولید کالا یا خدمتی می پردازند که بتوانند ..... خریدار ..... .

الف. منافع کالا را به - تخصیص دهند ب. هزینه های تولید را به - تحمیل نکنند.

ج. مصرف کالا را برای - امکان پذیر سازند. د. هزینه های تولید را برای - صفر نمایند.

۱۸. کدام گزینه در خصوص کالای عمومی خالص صحیح است؟

الف. هزینه استفاده فرد جدیدی از آن کالا بیشتر از قیمت آن می باشد.

ب. استفاده کنندگان اضافی بدون کاهش در منافع استفاده کنندگان دیگر از آن کالا بهره مند گردند.

ج. بهره مندی استفاده کنندگان اضافی باعث کاهش منافع دیگر استفاده کنندگان گردد.

د. افراد بتواند از طریق پیشنهاد قیمت های بالاتر برای بدست آوردن آن با یکدیگر رقابت کنند.

۱۹. کدام گزینه در خصوص فایده های خارجی (پی آمد خارجی مثبت) صحیح است؟

الف. قابل تفکیک است.

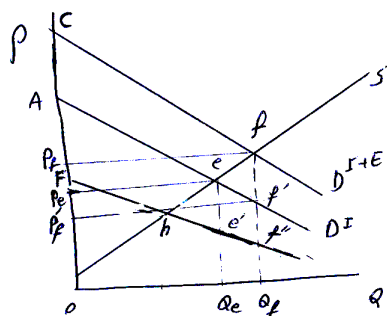
ب. منجر به تخصیص مناسب منابع توسط مکانیزم بازار می شود.

ج. باعث قصور مکانیزم بازار برای ایجاد بهینه پرتو می شود.

د. قیمت گذاری آن آسان است.

۲۰. با توجه به شکل زیر خالص تغییر در رفاه جامعه بعد از مداخله دولت در بازار یک کالا که با پی آمد خارجی مثبت روبرو

است چقدر است؟



الف.  $Q_e e' f'' Q_f - e' e f' f''$

ب.  $- f e f' f''$

ج.  $P_f f f' P_f'$

د.  $Q_e e' f'' Q_f - f e f' f''$

۲۱. در شکل سؤال ۲۰ جهت رسیدن به کارایی دولت چقدر سوبسید می پردازد؟

د.  $h e f' f''$

ج.  $P_f f f' P_f'$

ب.  $h f f''$

الف.  $Q_e e f Q_f$

نام درس: اقتصاد بخش عمومی (۱)

تعداد سؤال: نسی ۴۰ تکمیلی -- تشریحی --

رشته تحصیلی: گرایش: اقتصاد

زمان امتحان: تستی و تکمیلی ۸۰ دقیقه تشریحی --

کد درس: ۱۲۲۱۰۹۱ - طرح تجميع: ۱۲۲۱۱۲۵

تعداد کل صفحات: ۷

۲۲. در شرایط وجود پیآمدهای خارجی غیر اقتصادی سطح تولید تعادلی کالا ..... از مقدار کارآمد بوده و مکانیزم بازار .....

الف. کمتر - صحیح عمل می‌کند. ب. بیشتر - صحیح عمل می‌کند.

ج. برابر - صحیح عمل نمی‌کند. د. بیشتر - صحیح عمل نمی‌کند.

۲۳. پارک‌ها و پل‌ها وقتی در مرحله ازدحام قرار می‌گیرند تحت چه عنوانی نام‌گذاری می‌شوند؟

الف. کالای عمومی ناخالص ب. کالای عمومی خالص

ج. کالای خصوصی خالص د. کالای خصوصی ازدحام‌پذیر

۲۴. به نظر پیگو، برای هر شخص مقدار کارآمد عرضه کالای عمومی در جایی است که مطلوبیت نهایی حاصل از کالای عمومی ..... مطلوبیت نهایی ..... باشد.

الف. بیشتر از کاهش - پرداخت مالیات ب. برابر با کاهش - پرداخت مالیات

ج. کمتر از افزایش - کالای خصوصی د. برابر با افزایش - کالای خصوصی

۲۵. شرط بهینه تخصیص نهاده‌ها در تولید کالاهای خصوصی ( $x$ ) و کالای عمومی ( $G$ ) چیست؟

الف. نرخ نهایی جانشینی فنی نهاده‌ها در تولید  $x$  و  $G$  یکسان باشد.

ب. نرخ نهایی جانشینی فنی نهاده‌ها در تولید  $G$  بیشتر از  $x$  باشد.

ج. تولید نهایی هر عامل برای کالای  $G$  بیشتر از تولید نهایی کالای  $x$  باشد.

د. هزینه نهایی تولید هر کالای ( $x$ ) کمتر از هزینه نهایی کالای  $G$  باشد.

۲۶. شرط بهینه در تولید کالاهای عمومی چیست؟

$$\text{الف. } MC = MR \quad \text{ب. } MB_G = \sum_{i=1}^n MC_G^i$$

$$\text{ج. } MC = P \quad \text{د. } MC_G = \sum_{i=1}^n MB_G^i$$

۲۷. کدام گزینه در خصوص پدیده ازدحام صحیح است؟

الف. تعداد مطلوب مصرف کنندگان کالاهای عمومی با وجود ازدحام افزایش می‌یابد.

ب. ازدحام در راستای کاهش مقیاس اقتصادی مصرف کالای عمومی است.

ج. افزایش تعداد مصرف کنندگان کالاهای عمومی خالص باعث پدیده ازدحام می‌شود.

د. پیدایش پدیده ازدحام باعث عدم رقابت‌پذیری در مصرف کالای عمومی می‌شود.

۲۸. در یک تعادل سیاسی، نحوه تأمین مالی کالاها و خدمات عمومی بر چه اساسی است؟

الف. میزان تولید بهینه آنها ب. قیمت مالیاتی

ج. از طریق مکانیزم بازار د. فروش آنها توسط دولت

۲۹. در قاعده آرای اکثریت به کدامیک از اطلاعات زیر نیازی نیست که رأی دهنده دسترسی داشته باشد.

الف. هزینه نهایی کالای عمومی ب. توزیع سهم مالیات بین رأی دهندگان

ج. فایده موضوع رأی‌گیری د. فایده نهایی سایر رأی دهندگان از مصرف کالا

نام درس: اقتصاد بخش عمومی (۱)

تعداد سؤال: نسی ۴۰ تکمیلی -- تشریحی --

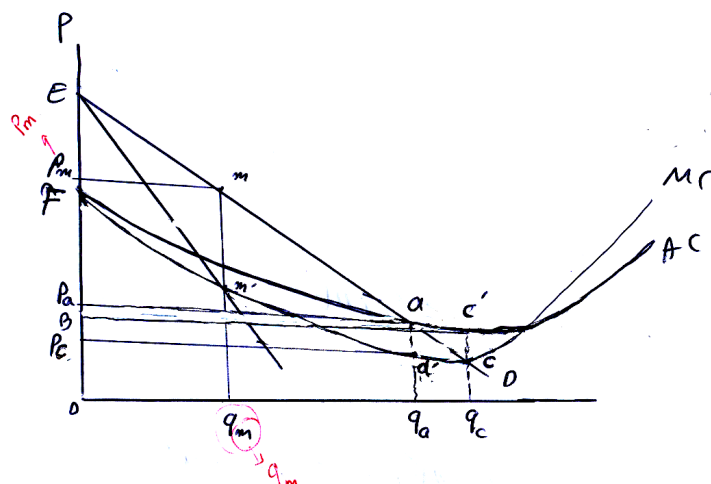
رشته تحصیلی: گرایش: اقتصاد

زمان امتحان: تستی و تکمیلی ۸۰ نفيه تشریحی -- نفيه

کد درس: ۱۲۲۱۰۹۱ - طرح تجميع: ۱۲۲۱۱۲۵

تعداد کل صفحات: ۷

\* با توجه به شکل زیر (مربوط به یک انحصار طبیعی) به سؤال‌های ۳۰ و ۳۱ پاسخ دهید.



۳۰. سطح تولید کارآمد از نظر جامعه چقدر است؟

- الف. صفر      ب.  $O q_c$       ج.  $q_m q_a$       د.  $O q_m$

۳۱. اگر تولید در سطح  $O q_a$  تعیین شود تغییر در رفاه نسبت به وضعیت کارآمد چقدر است؟

- الف.  $-a c a'$       ب.  $a c' c$       ج.  $q_a a' c q_c$       د.  $-m a a' m'$

۳۲. در شرایطی که راه حل خصوصی برای تولید کالائی (که حالت انحصار طبیعی دارد) وجود ندارد. اگر دولت به تولید آن بپردازد. امکان عرضه آن به قیمتی ..... وجود دارد.

- الف. برابر هزینه متوسط      ب. بیشتر از هزینه متوسط  
ج. برابر هزینه نهائی      د. کمتر از هزینه نهائی

۳۳. شرط کسب حداکثر سود با قیمت‌های تبعیضی چیست؟

- الف. برابری درآمدهای نهایی هر بازار و هزینه نهائی است.  
ب. برابری قیمت‌های مختلف در هر بازار و هزینه نهائی است.  
ج. درآمد نهائی بیشتر در بازاری که قیمت بالاتری دارد حاصل شود.  
د. برابری درآمد کل حاصل از همه بازارها با هزینه کل است.

۳۴. در شرایط وجود محدودیت ظرفیت تولید، قیمت در استفاده از حداکثر بار ..... خواهد بود.

- الف. کمتر از هزینه نهائی بلندمدت      ب. بیشتر از هزینه نهائی بلندمدت  
ج. برابر با هزینه متوسط تولید      د. برابر با هزینه متوسط متغیر

۳۵. نظریه بهینه دوم، می‌گوید می‌توان در شرایطی که ..... در تعداد بازارهایی که شرایط کارایی ( $MC = P$ ) در آنها وجود داشته است باعث ..... در رفاه کل شده.

- الف. افزایش - افزایش      ب. کاهش - کاهش  
ج. کاهش - افزایش      د. افزایش - عدم تغییر

نام درس: اقتصاد بخش عمومی (۱)

تعداد سؤال: نسی ۴۰ تکمیلی -- تشریحی --

رشته تحصیلی: گرایش: اقتصاد

زمان امتحان: تستی و تکمیلی ۸۰ دقیقه تشریحی -- دقیقه

کد درس: ۱۲۲۱۰۹۱ - طرح تجميع: ۱۲۲۱۱۲۵

تعداد کل صفحات: ۷

۳۶. مجری بودجه ثابت، باید بودجه را به گونه‌ای بین طرح‌های قابل تقسیم  $\alpha$  و  $\beta$  تقسیم نماید که شرط زیر برقرار گردد؟

$$\text{الف. } \frac{MB_{\alpha}}{MB_{\beta}} = \frac{MC_{\alpha}}{MC_{\beta}}$$

$$\text{ب. } MB_{\alpha} = MB_{\beta}$$

$$\text{ج. } \frac{MB_{\beta}}{MC_{\beta}} = \frac{MB_{\alpha}}{MC_{\alpha}} > 1$$

$$\text{د. } MC_{\alpha} + MC_{\beta} < MB_{\alpha} + MB_{\beta}$$

۳۷. در بودجه قابل تغییر هزینه فرصت یک طرح عمومی باید با چه چیزی تعیین گردد؟

الف. فایده از دست رفته یک طرح عمومی دیگر

ب. فایده از دست رفته عدم اجرای طرح خصوصی

ج. کل مالیاتی که دولت برای اجرای طرح می‌گیرد.

د. مقدار مالیات نهایی جهت اجرای آخرین طرح

۳۸. هنگامیکه بازار کامل نباشد (مثال: حضور پی‌آمدهای خارجی) اقتصاددانان برای اندازه‌گیری هزینه‌ها و فایده‌های طرح از

چه متغیری استفاده می‌کنند؟

ب. قیمت‌های دستوری

الف. قیمت‌های بازار غیر رقابتی

د. غیر قابل اندازه‌گیری است.

ج. قیمت‌های سایه‌ای

۳۹. اگر امروز ۱۰۰۰ تومان داشته باشیم و نرخ تورم ۵٪ و نرخ بهره ۱۰٪ باشد ارزش آن در سال آینده چقدر است؟

د. ۸۶۹/۷

ج. ۱۰۵۰

ب. ۹۰۹

الف. ۱۱۵۰

۴۰. عدم کارآئی « X » یعنی چه؟

الف. عدم کارآئی مدیران دولتی است که مربوط به مستقل بودن درآمد مدیران دولتی از سود بنگاه است.

ب. عدم کارآئی مدیران دولتی است که به خاطر عدم شناخت از علل آن « X » نامیده شده است.

ج. عدم کارآئی مدیران بخش خصوصی است که صرفاً با انگیزه حداکثر سازی که هر رفتاری باشد.

د. عدم کارآئی مدیران بخش خصوصی است که به منافع سهامداران توجهی نشان نمی‌دهند.