

کد کنترل

290

F

## آزمون (نیمه متمرکز) ورود به دوره های دکتری - سال ۱۴۰۱

دفترچه شماره (۱)

صبح جمعه ۱۴۰۰/۱۲/۶



جمهوری اسلامی ایران  
وزارت علوم، تحقیقات و فناوری  
سازمان سنجش آموزش کشور

«اگر دانشگاه اصلاح شود مملکت اصلاح می شود»  
امام خمینی (ره)

رشته مهندسی برق - قدرت  
(کد ۲۳۰۴)

جدول مواد امتحانی، تعداد، شماره سؤال ها و زمان پاسخ گویی

زمان پاسخ گویی	تأ شماره	از شماره	تعداد سؤال	مواد امتحانی
۱۵۰ دقیقه	۴۵	۱	۴۵	مجموعه دروس تخصصی: - ریاضیات مهندسی - مدارهای الکتریکی ۱ و ۲ - تحلیل سیستم های انرژی الکتریکی - ماشین های الکتریکی ۳

استفاده از ماشین حساب مجاز نیست.

این آزمون نمره منفی دارد.

حق چاپ، تکثیر و انتشار سؤال ها به هر روش (الکترونیکی و...) پس از برگزاری آزمون، برای تمامی اشخاص حقیقی و حقوقی تنها با مجوز این سازمان مجاز می باشد و با متخلفان برابر مقررات رفتار می شود.

\* متقاضی گرامی، وارد نکردن مشخصات و امضا در کادر زیر، به منزله غیبت و حضور نداشتن در جلسه آزمون است.

اینجانب ..... با شماره داوطلبی ..... با آگاهی کامل، یکسان بودن شماره صندلی خود را  
با شماره داوطلبی مندرج در بالای کارت ورود به جلسه، بالای پاسخ نامه و دفترچه سؤال ها، نوع و کد کنترل درج شده  
بر روی دفترچه سؤال ها و پایین پاسخ نامه ام را تأیید می نمایم.

امضا:

۱- اگر  $f(z) = \frac{1}{(z-1)(z-2)}$ ، آنگاه بسط لوران  $f$  در حوزه  $|z| > 2$  حول مبدأ مختصات کدام است؟

$$\begin{aligned} (1) \quad & \sum_{n=0}^{\infty} \frac{2^n - 1}{z^{n+1}} \\ (2) \quad & \sum_{n=0}^{\infty} \left(1 - \frac{1}{2^{n+1}}\right) \frac{1}{z^{n+1}} \\ (3) \quad & \sum_{n=0}^{\infty} \left(1 + \frac{1}{2^{n+1}}\right) \frac{1}{z^{n+1}} \\ (4) \quad & - \left( \sum_{n=0}^{\infty} \frac{z^n}{2^{n+1}} + \sum_{n=0}^{\infty} \frac{1}{z^{n+1}} \right) \end{aligned}$$

۲- کدام تبدیل  $w = u + iv$ ، دایره ای به معادله  $x^2 + y^2 + \frac{1+r^2}{1-r^2}x + 9 = 0$  را روی دایره ای به معادله  $u^2 + v^2 = r^2$  می نگارد؟

$$w = \frac{z-3}{z+3} \quad (1)$$

$$w = \frac{z+3}{z-3} \quad (2)$$

$$w = 2 \frac{z-3}{z+3} \quad (3)$$

$$w = 2 \frac{z+3}{z-3} \quad (4)$$

۲- اگر  $u(x, t)$  جواب معادله 
$$\begin{cases} u_t = u_{xx} & 0 \leq x \leq \pi, t \geq 0 \\ u(0, t) = u(\pi, t) = 0 \\ u(x, 0) = \sin x + \sin 3x & 0 < x < \pi \end{cases}$$
 باشد، مقدار  $u(\frac{\pi}{2}, 1)$  کدام است؟

(۱)  $\frac{e^2 + 1}{e^2}$

(۲)  $\frac{e^2 - 1}{e^2}$

(۳)  $\frac{e^2 + 1}{e^4}$

(۴)  $\frac{e^4 - 1}{e^4}$

۳- با استفاده از قضیه مانده ها حاصل انتگرال  $\oint_{|z|=1} z^m e^z dz$  کدام است؟

(۱)  $\frac{\pi i}{(m+1)!}$

(۲)  $\frac{2\pi i}{m!}$

(۳)  $\frac{2\pi i}{(m+1)!}$

(۴)  $\frac{\pi i}{m!}$

۵- حاصل انتگرال کوشی  $\int_{-\infty}^{\infty} \frac{x \sin x}{x^2 + 2x + 2} dx$  کدام است؟

(۱)  $\frac{\pi}{2e} (\sin 1 - \cos 1)$

(۲)  $\frac{\pi}{2e} (\cos 1 + \sin 1)$

(۳)  $\frac{\pi}{e} (\sin 1 - \cos 1)$

(۴)  $\frac{\pi}{e} (\sin 1 + \cos 1)$

۶- حاصل عبارت  $\oint_{|z|=2} \frac{dz}{1+z+z^2+z^3}$  کدام است؟

(۱)  $-\pi i$

(۲)  $-\frac{\pi}{2} i$

(۳) صفر

(۴)  $\pi i$

۷- اگر  $\int_0^{\infty} \frac{\omega \sin \omega x}{\omega^2 + k^2} d\omega = \frac{\pi}{2} e^{-kx}$  باشد، حاصل عبارت  $\int_0^{\infty} \frac{\omega \sin \omega x}{\omega^2 + 64} d\omega$  کدام است؟

(راهنمایی:  $\sin \alpha x = \frac{1}{2i}(e^{i\alpha x} - e^{-i\alpha x})$ )

(۱)  $\frac{\pi}{16} e^{-2x} \sin 2x$

(۲)  $\frac{\pi}{16} e^{-2x} \cos 2x$

(۳)  $\frac{\pi}{4} e^{-x} \sin x$

(۴)  $\frac{\pi}{4} e^{-x} \cos x$

۸- فرض کنید  $\ln$  شاخه اصلی لگاریتم است. در این صورت حاصل انتگرال  $\oint_{|z+i|=1} \frac{\ln(z)}{(z+i)^2} dz$  کدام است؟

(۱)  $-\pi$

(۲)  $\pi i$

(۳)  $-2\pi$

(۴)  $2\pi i$

۹- اگر ناحیه  $|z|=2$  را تحت رابطه  $w = z + \frac{2}{z}$  نگاشت کنیم، مساحت ناحیه نگاشت شده چقدر است؟

(۱)  $2\pi$

(۲)  $3\pi$

(۳)  $4\pi$

(۴)  $6\pi$

۱۰- جواب معادله دیفرانسیل مشتقات نسبی  $\begin{cases} U_{tt} = U_{xx} \\ U(0, t) = U(\pi, t) = U(x, 0) = 0 \\ U_t(x, 0) = k \sin 3x - \frac{k}{2} \sin 6x \end{cases}$  کدام است؟

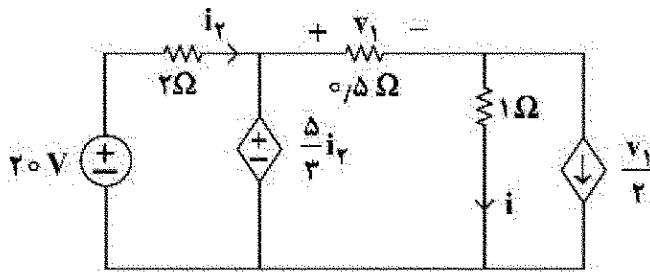
(۱)  $U(x, t) = \frac{k}{3} \sin 3t \sin 3x - \frac{k}{12} \sin 6t \sin 6x$

(۲)  $U(x, t) = \frac{k}{4} \sin 4t \sin 3x - \frac{k}{12} \sin 6t \sin 6x$

(۳)  $U(x, t) = \frac{k}{3} \sin 3t \sin 3x - \frac{k}{4} \sin 4t \sin 6x$

(۴)  $U(x, t) = \frac{k}{9} \sin 9t \sin 3x - \frac{k}{12} \sin 6t \sin 6x$

۱۱- در مدار زیر مقادیر  $V_1$ ،  $I$  به ترتیب از راست به چپ چقدر است؟



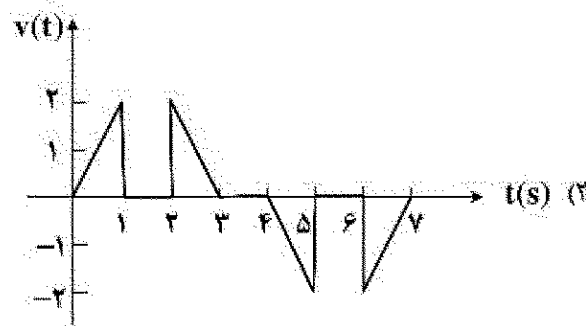
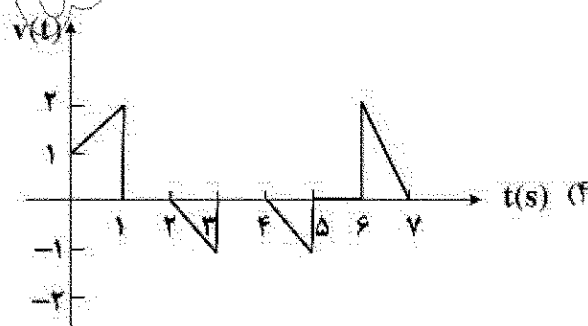
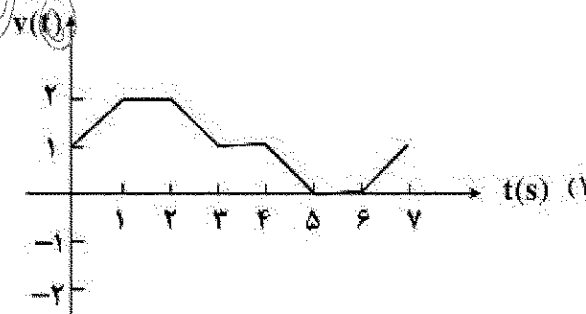
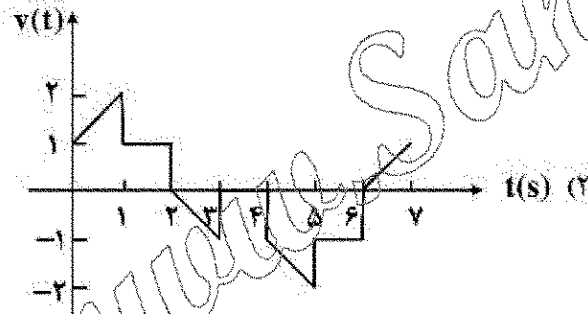

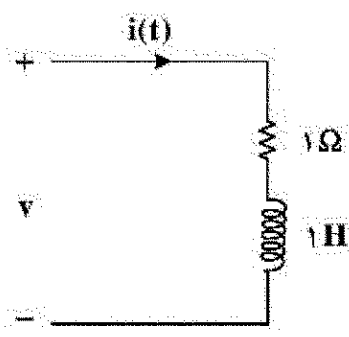
(۱)  $\frac{4}{3}$  و  $\frac{4}{3}$

(۲)  $\frac{2}{3}$  و  $\frac{5}{6}$

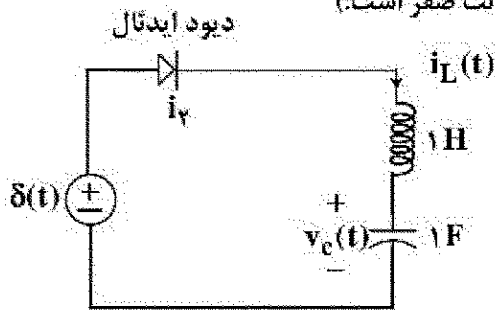
(۳)  $\frac{20}{3}$  و  $\frac{40}{3}$

(۴)  $\frac{60}{11}$  و  $\frac{40}{11}$

۱۲- جریان اعمال شده به مدار شکل (الف) به صورت شکل (ب) است. شکل موج ولتاژ  $V(t)$  چگونه خواهد بود؟



۱۳- درباره مدار زیر کدام گزینه درست است؟ (مدار در  $t = 0^-$  در حالت صفر است.)



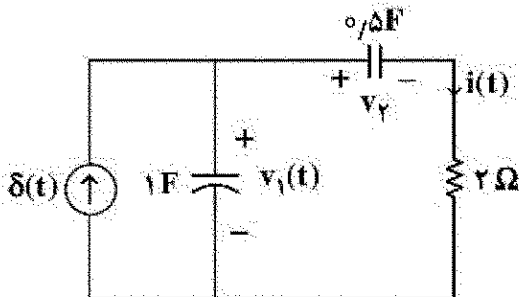
(۱) در  $t > \frac{\pi}{2}$  دیود خاموش می شود و  $v_c(\frac{\pi}{2}) = 0$

(۲) دیود در همه زمان ها خاموش است و  $v_c(t) = 0$

(۳) در  $t > \frac{\pi}{2}$  دیود خاموش می شود و  $v_c(\frac{\pi}{2}) = 1$

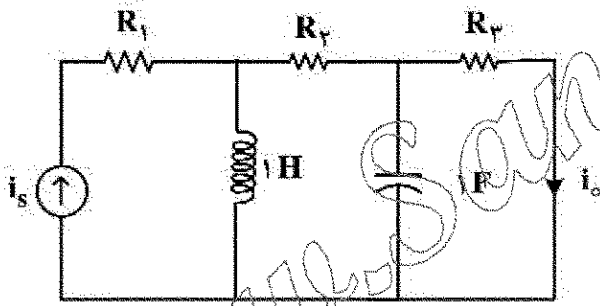
(۴) دیود همواره روشن است و  $v_c(\pi) = 0$ ,  $i_L(\pi) = -1$

۱۴- در مدار زیر شرایط اولیه در  $t = 0^-$  صفر است. مقادیر  $i(0^+)$  و  $v_p(0^+)$  به ترتیب از راست به چپ کدام اند؟



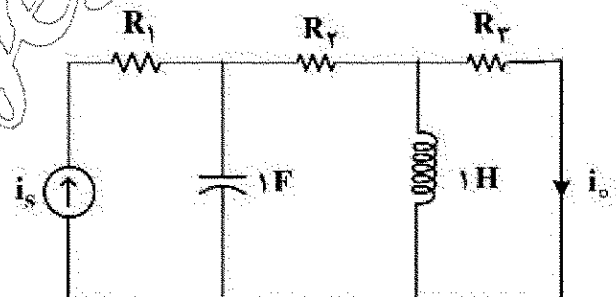
- (۱)  $\frac{1}{2}$  و  $\frac{1}{2}$   
(۲)  $\frac{1}{2}$  و  $\frac{1}{2}$   
(۳)  $1$  و  $0$   
(۴)  $0$  و  $0$

۱۵- در دو مدار زیر اطلاعات لازم در حالت دائمی سینوسی داده شده اند.  $i_o(t)$  در مدار (ب) کدام است؟



$$i_s(t) = 1 \cos(t + 45^\circ), i_o(t) = 2 \cos(t - 45^\circ)$$

مدار (الف)



$$i_s(t) = 2 \cos(t + \frac{\pi}{6}), i_o(t) = ?$$

مدار (ب)

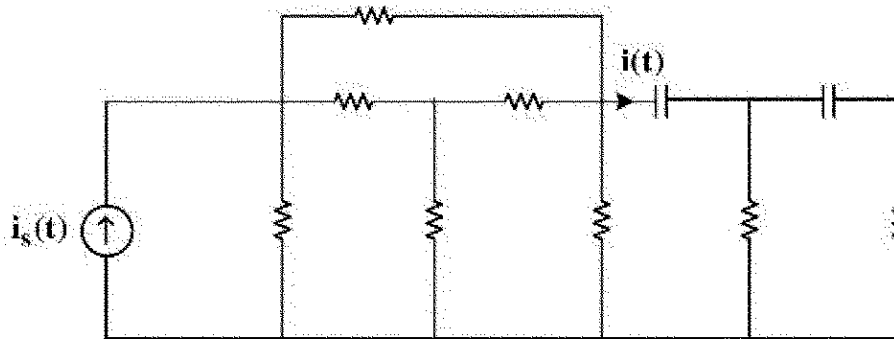
(۱)  $\frac{1}{5} \sin(t + 30^\circ)$

(۲)  $\frac{3}{5} \sin(t + 150^\circ)$

(۳)  $\frac{3}{5} \cos(t + 150^\circ)$

(۴)  $\frac{1}{5} \cos(t + 50^\circ)$

۱۶- مدار شکل زیر از عناصر خطی تغییرناپذیر با زمان و پسیو تشکیل شده است. معادله دیفرانسیل  $i(t)$ ، کدام گزینه می تواند باشد؟



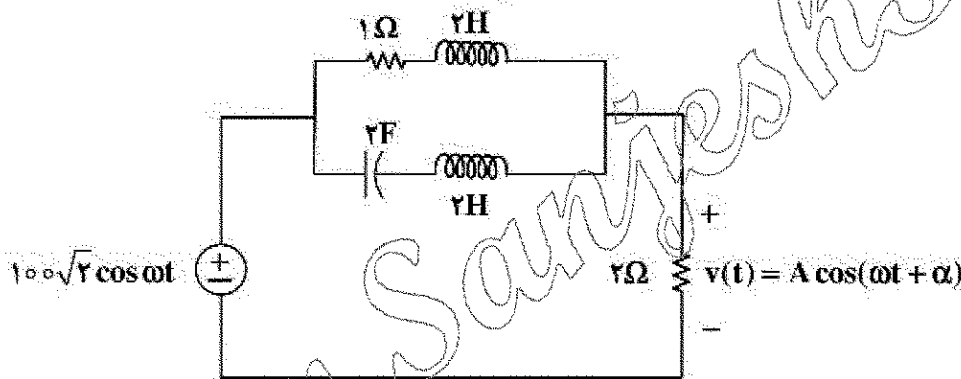
$$\frac{d^2 i}{dt^2} + 2 \frac{di}{dt} + 2i(t) = i_s(t) \quad (1)$$

$$\frac{d^2 i}{dt^2} + 2 \frac{di}{dt} + 2i(t) = \frac{di_s}{dt} \quad (2)$$

$$\frac{d^2 i}{dt^2} + 2 \frac{di}{dt} + 2i(t) = \frac{d^2 i_s}{dt^2} + \frac{di_s}{dt} \quad (3)$$

$$\frac{d^2 i}{dt^2} + 2 \frac{di}{dt} + 2i(t) = 2i_s(t) + \frac{d^2 i_s}{dt^2} \quad (4)$$

۱۷- در مدار زیر در چه شرایطی ولتاژ ماندگار  $v(t)$  دارای مقدار بیشترین مقدار  $A$  خواهد بود؟ مقدار  $A$  چقدر است؟



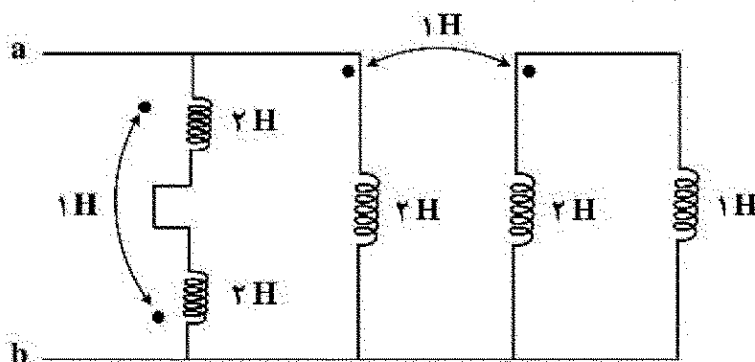
$$\omega = \frac{1}{2} \frac{\text{rad}}{\text{s}}, A = 100\sqrt{2} \text{ V} \quad (1)$$

$$\omega = \frac{1}{2} \frac{\text{rad}}{\text{s}}, A = 200 \text{ V} \quad (2)$$

$$\omega = 2 \frac{\text{rad}}{\text{s}}, A = 50\sqrt{2} \text{ V} \quad (3)$$

$$\omega = 2 \frac{\text{rad}}{\text{s}}, A = 20 \text{ V} \quad (4)$$

۱۸- در مدار زیر اندوکتانس دیده شده از دو سر  $a$  و  $b$  چند هانری است؟



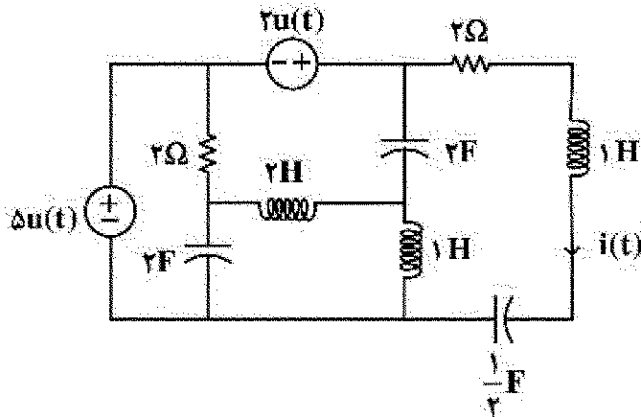
$$0.7 \quad (1)$$

$$\frac{10}{11} \quad (2)$$

$$\frac{11}{2.5} \quad (3)$$

$$\frac{5}{11} \quad (4)$$

۱۹- در مدار زیر سلف ها و خازن ها فاقد انرژی اولیه اند. معادله جریان  $i(t)$  برای زمان های پس از صفر، کدام است؟



(۱)  $4e^{-t} \cos t + 5e^{-t} \sin t$

(۲)  $e^{-t} (\cos 2t + 2 \sin t)$

(۳)  $2te^{-t}$

(۴)  $ve^{-t} \sin t$

۲۰- در گراف پیوسته مسطح بدون لولا با ۱۰ شاخه، به هر گره آن دقیقاً ۴ شاخه متصل است. اگر  $A$  ماتریس تلافی گره با شاخه مختصر شده باشد، ابعاد این ماتریس کدام است؟

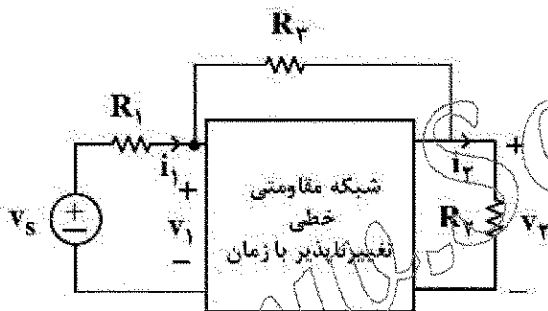
(۱)  $4 \times 10$

(۲)  $6 \times 10$

(۳)  $3 \times 10$

(۴)  $10 \times 10$

۲۱- مدار زیر در دو حالت مورد آزمایش قرار گرفته است. نتایج آزمایش ها به شرح زیر است. در حالت دوم توان تحویلی منبع ولتاژ چند وات است؟



	$v_1$	$i_1$	$v_2$	$i_2$	$R_1$	$R_2$	$R_3$
حالت اول	۵	۲	۲	۱	۱	۲	۴
حالت دوم	۴	۱	۳	۳	۱	۱	۴

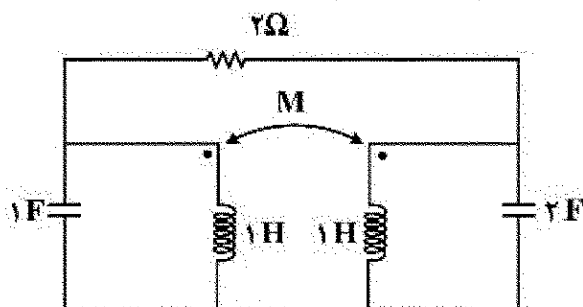
(۱) ۱

(۲) ۲

(۳) ۳

(۴) ۴

۲۲- مقدار  $M$  چند هانری باشد که مدار کمترین مرتبه را داشته باشد. مرتبه مدار کدام است؟



(۱)  $M=1$  و مرتبه مدار ۲

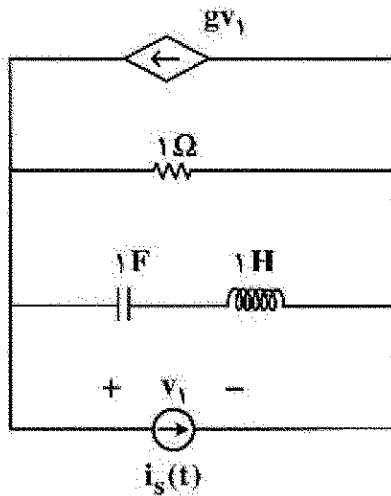
(۲)  $M=0$  و مرتبه مدار ۲

(۳)  $M=1$  و مرتبه مدار ۳

(۴)  $M=-1$  و مرتبه مدار ۴



۲۳- اگر  $s=1$  فرکانس طبیعی مدار شکل زیر باشد، مقدار  $g$  کدام است؟



- (۱)  $1.5\Omega$
- (۲)  $2.5\Omega$
- (۳)  $-2.5\Omega$
- (۴)  $-1.5\Omega$

۲۴- در یک مدار مرتبه ۶ با دو منبع مستقل  $v_s(t)$  و  $i_s(t)$  دو تابع شبکه زیر داده شده است:

$$H_1(s) = \frac{I_1}{I_s} \bigg|_{V_s=0} = \frac{(s+3)}{(s+1)^2}, \quad H_2(s) = \frac{V_2}{V_s} \bigg|_{I_s=0} = \frac{s+7}{(s+1)(s+2)}$$

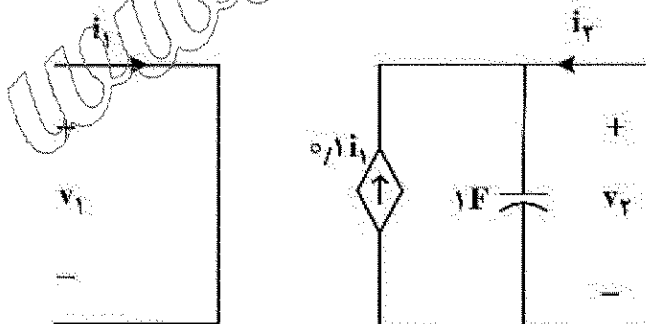
پاسخ ورودی صفر متغیر  $v_2(t)$  به ازای یک دسته شرایط اولیه و با صفر کردن دو منبع  $v_s(t)$  و  $i_s(t)$  برابر است با:  $v_2(t) = 5e^{-2t} + 6e^{-3t}$  ;  $t > 0$ .

در مورد این مدار، کدام یک از گزینه های زیر نادرست است؟

- (۱) شش فرکانس طبیعی این مدار ممکن است  $-1, -1, -1, -2, -2, -3$  باشد.
- (۲) چهار فرکانس طبیعی این مدار برابر است با:  $-1, -1, -2, -3$ .
- (۳) متغیر  $i_1(t)$  حداقل ۲ فرکانس طبیعی دارد.
- (۴) متغیر  $v_2(t)$  فقط ۲ فرکانس طبیعی دارد.

۲۵- درباره دوقطبی شکل زیر، کدام گزینه درست است؟

$$\begin{pmatrix} V_1 \\ V_2 \end{pmatrix} = Z \begin{pmatrix} I_1 \\ I_2 \end{pmatrix} \quad \begin{pmatrix} I_1 \\ I_2 \end{pmatrix} = Y \begin{pmatrix} V_1 \\ V_2 \end{pmatrix} \quad \begin{pmatrix} V_1 \\ V_2 \end{pmatrix} = H \begin{pmatrix} I_1 \\ I_2 \end{pmatrix}$$



- (۱) ماتریس های  $H$  و  $Z$  و  $Y$  را دارد.
- (۲) ماتریس های  $Z$  و  $Y$  را دارد ولی  $H$  ندارد.
- (۳) ماتریس های  $H$  و  $Y$  را دارد ولی  $Z$  ندارد.
- (۴) ماتریس های  $H$  و  $Z$  را دارد ولی  $Y$  ندارد.

۲۶- ماتریس امپدانس باس یک شبکه به صورت زیر بوده و چهار عبارت زیر در مورد آن بیان شده است. با فرض آنکه شبکه بی بار بوده و اندازه ولتاژ همه باس ها برابر ولتاژ نامی باشد، چه تعداد از عبارت های زیر درست است؟

$$Z_{bus} = j \begin{bmatrix} 0.1081 & 0.0811 & 0.027 \\ 0.0811 & 0.2108 & 0.0702 \\ 0.027 & 0.0702 & 0.1568 \end{bmatrix}$$

- جریان اتصال کوتاه در باس ۳ کمتر از باس ۱ است.
- امپدانس تونن شبکه از دید باس ۲ برابر ۰/۲۱۰۸ است.
- در خلال اتصال کوتاه باس ۱، اندازه ولتاژ باس ۳ کمتر از ولتاژ باس ۲ است.
- بین باس های ۱ و ۳ یک ترانسفورمر در موقعیت تب غیرنامی وجود دارد.

(۱) ۲ (۲) ۳ (۳) ۴ (۴) ۴

۲۷- یک شبکه قدرت دارای ۱۱۸ باس است که ۵۴ باس آن دارای قابلیت کنترل ولتاژ هستند. در مورد این شبکه چهار عبارت زیر بیان شده است. چند عبارت درست است؟

- تعداد معادلات پخش بار با روش گوس - سایدل ۱۱۸ معادله است.
- حداکثر تعداد شین های ۱۲۷ این شبکه در پخش بار نیوتن - رافسون ۵۴ شین است.
- حداقل ابعاد ماتریس ژاکوبین پخش بار ۱۸۱×۱۸۱ است.
- حداکثر ابعاد ماتریس ژاکوبین پخش بار ۲۳۵×۲۳۵ است.

(۱) چهار (۲) سه (۳) دو (۴) یک

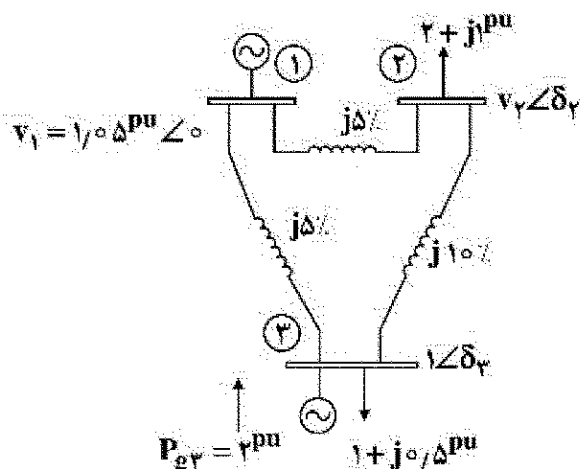
۲۸- یک خط انتقال کوتاه شامل یک هادی ACSR در هر فاز با مقاومت ناچیز است. با افزودن یک هادی دیگر بر هر فاز، هادی های خط را به صورت گروهی درمی آوریم. با فرض آنکه اندازه و فاز ولتاژهای دو طرف خط نسبت به حالت اولیه ثابت بماند، درباره اندازه جریان خط چه می توان گفت؟

- (۱) زیاد می شود. (۲) کم می شود. (۳) تغییر نمی کند. (۴) نمی توان قضاوت کرد.

۲۹- در یک خط انتقال سه فاز بدون تلفات شبکه ۵۰ Hz مقدار اندوکتانس سری برحسب هانری معادل  $16 \times 10^{-10}$  برابر مقدار خازن موازی خط برحسب میکروزیمنس است. چنانچه اندازه ولتاژهای دو طرف خط برابر (۱۱) ۲۰۰ kV باشد، بار طبیعی خط (SIL) چند مگاوات است؟

(۱) ۵۰ (۲) ۱۰۰ (۳) ۲۰۰ (۴) هیچ کدام

۳۰- در محاسبات پخش بار شبکه شکل زیر با روش نیوتن رفسون در تکرار II، مقادیر زیر محاسبه شده است.



درایه  $\frac{\partial P_2}{\partial \delta_3}$  ماتریس ژاکوبین در این تکرار کدام است؟

$$P_{g3}^{(n)} = 1.8 \text{ pu}, P_r^{(n)} = 1.73 \text{ pu}$$

$$Q_{g3}^{(n)} = 0.8 \text{ pu}, Q_r^{(n)} = 0.83 \text{ pu}$$

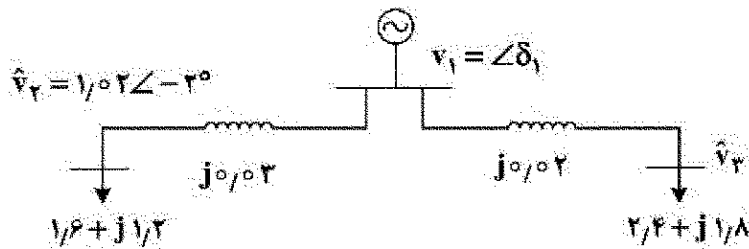
(۱) -۳۹/۲

(۲) ۲۹/۲

(۳) ۲۹/۷

(۴) ۴۰/۳

۳۱- در شکل زیر، آرایش بخشی از شبکه با مقادیر امپدانس، توان و ولتاژها بر حسب واحد نشان داده شده است. ولتاژ



باس ۳ کدام است؟

(۱)  $1.02 \angle -2^\circ$


(۲)  $1.02 \angle +2^\circ$

(۳)  $0.983 + j0.012$

(۴)  $0.983 - j0.012$

۳۲- در خط انتقال زیر کمترین اندازه ولتاژ در یک سوم طول خط از سمت باس شماره ۱ اتفاق می افتد. اگر مصرف راکتیو

خط انتقال برابر  $0.24 \text{ pu}$  باشد، زاویه توان با تقریب  $\sin \delta \approx \delta$  چند رادیان است؟



(۱)  $0.06$

(۲)  $0.12$

(۳)  $0.24$

(۴)  $0.26$

۳۳- ماتریس امپدانس باس توالی مثبت یک شبکه بر حسب واحد به صورت زیر است. در شرایطی که ولتاژ باس ۲ برابر

ولتاژ نامی است، یک اتصال کوتاه یک فاز به زمین در این باس رخ می دهد. چنانچه امپدانس های توالی مثبت و منفی

از دید باس ۲ یکسان بوده و امپدانس توالی صفر ۳ برابر امپدانس توالی مثبت باشد، آنگاه جریان اتصال کوتاه تک

فاز به زمین بر حسب واحد چقدر خواهد بود؟

$$Z_{bus} = j \begin{bmatrix} 0.1 & 0.2 & 0.3 \\ 0.2 & 0.4 & 0.5 \\ 0.3 & 0.5 & 0.6 \end{bmatrix}$$

(۲)  $1/2$

(۱)  $0.5$

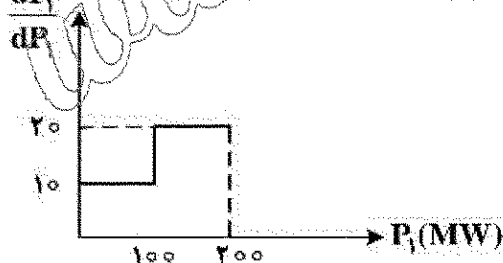
(۴)  $2/5$

(۳)  $1/5$

۳۴- تابع هزینه تولید دو نیروگاه ۲۰۰ و ۳۰۰ مگاواتی به ترتیب  $F_1(P_1)$  و  $F_2(P_2)$  است. توابع هزینه افزایشی این دو

واحد بر حسب واحد پول بر مگاوات مطابق شکل داده شده است. اگر بخواهیم بار مصرفی به میزان ۲۵۰ MW را توسط

این دو واحد تولیدی تأمین کنیم، تولید بهینه هر یک از واحدها با چشم پوشی از تلفات چند مگاوات خواهد بود؟

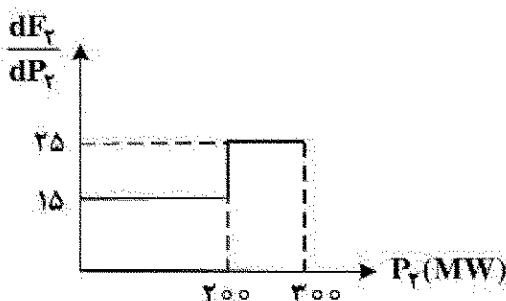


(۱)  $P_1 = 125, P_2 = 225$

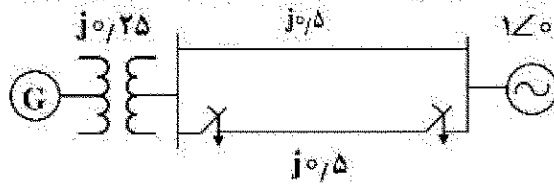
(۲)  $P_1 = 150, P_2 = 200$

(۳)  $P_1 = 100, P_2 = 250$

(۴)  $P_1 = 200, P_2 = 150$



۳۵- در شبکه زیر، بیش از ورود خط دوم به مدار، ژنراتور توان حقیقی  $0.8 \angle 0^\circ$  را به شبکه تحویل می دهد. پس از ورود خط دوم به مدار:



$$E = 1.5 \angle \delta$$

$$E' = 1.25 \angle \delta'$$

$$X_d = 2$$

$$X_d' = 0.5$$

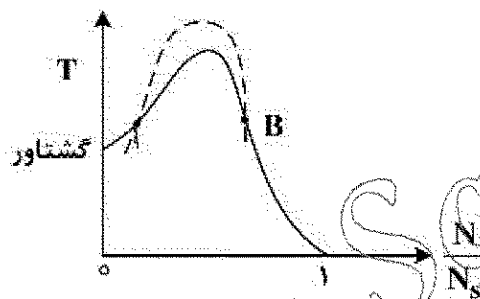
(۱) ژنراتور پایدار می ماند و در زاویه قدرت کمتر از  $30^\circ$  نسبت به باس بی نهایت به حالت ماندگار می رسد.

(۲) بلافاصله پس از وارد شدن خط دوم به مدار، سرعت ژنراتور افزایش یافته و در نهایت ناپایدار می شود.

(۳) بلافاصله پس از وارد شدن خط دوم به مدار، سرعت ژنراتور کاهش یافته و در نهایت ناپایدار می شود.

(۴) ژنراتور پایدار می ماند و در زاویه قدرت بیش از  $30^\circ$  نسبت به باس بی نهایت به حالت ماندگار می رسد.

۳۶- یک موتور القایی قفسه ای از یک منبع سه فاز متعادل تغذیه شده و یک بار مکانیکی را می چرخاند. مشخصه گشتاور/سرعت موتور (خط پر) و مشخصه بار (خط چین) در شکل زیر داده شده اند. در مورد دو نقطه تعادل A و B کدام یک از انتخاب های زیر درست است؟



(۱) هم A و هم B پایدارند.

(۲) هم A و هم B ناپایدارند.

(۳) A پایدار و B ناپایدار است.

(۴) A ناپایدار و B پایدار است.

۳۷- توان ورودی اندازه گیری شده در آزمایش اتصال کوتاه و مدار باز استاندارد یک ترانسفورماتور تکفاز ۲۰۰ کیلووات آمپر، به ترتیب ۲۴ و ۶ کیلووات است. بازده ماکزیمم این ترانسفورماتور در بار با ضریب توان واحد تقریباً چند درصد است؟

(۲) ۸۷

(۱) ۸۵

(۴) ۹۳

(۳) ۸۹

۳۸- جریان فازهای a استاتور و روتور یک موتور القایی سه فاز به صورت  $i_s = 15 \cos(120\pi t + \phi_s)$  و  $i_r = 5 \cos(6\pi t + \phi_r)$  است. این موتور باری با مشخصه  $T_e = \frac{95}{\omega} \omega^2$  را می چرخاند که در آن  $\omega$  سرعت

بر حسب رادیان بر ثانیه است. اگر تلفات اهمی روتور ۱۰ کیلووات باشد، گشتاور محور چند نیوتن متر است؟

(۲) ۶,۰۰۰

(۱) ۱,۰۰۰

(۴) ۹,۵۰۰

(۳) ۸,۵۰۰

۳۹- یک موتور القایی قفسه ای سه فاز ۶ قطب ۴۴۰ V و فرکانس ۵۰ Hz در حال کار با لغزش ۵٪ است. تفاضل سرعت میدان مغناطیسی استاتور با میدان مغناطیسی روتور و تفاضل سرعت روتور با سرعت میدان مغناطیسی استاتور

به ترتیب از راست به چپ برابر با کدام است؟ (اعداد بر حسب دور بر دقیقه هستند.)

(۲) ۱۰۰۰ و ۵۰

(۱) ۵۰ و ۰

(۴) ۱۰۰۰ و ۹۵۵

(۳) ۹۵۵ و ۰

۴۰- یک موتور القایی سه فاز  $400V$ ،  $50Hz$  و  $30hp$  با بار پس فاز  $0.8$  جریان  $50A$  می کشد. تلفات اهمی استاتور و روتور به ترتیب  $1.5kW$  و  $900W$  است. تلفات اصطکاک و تهویه  $1050W$  و تلفات هسته  $1200W$  است. توان تقریبی فاصله هوایی موتور چند کیلووات است؟ ( $\sqrt{3} \approx 1.73$ )

(۱) ۲۰

(۲) ۲۳

(۳) ۲۴

(۴) ۲۵

۴۱- یک موتور القایی قفسه ای گشتاور راه اندازی  $15\%$  و حداکثر گشتاور  $200\%$  گشتاور اسمی را در ولتاژ و فرکانس اسمی داراست. با چشم پوشی از مقاومت استاتور و تلفات چرخشی برای حداکثر گشتاور، لغزش کدام است؟

(۱)  $26.9\%$

(۲)  $34.8\%$

(۳)  $18.9\%$

(۴)  $16.4\%$

۴۲- یک ترانسفورماتور تک فاز دو سیم پیجه  $50kVA$ ،  $\frac{250V}{500V}$  در بار کامل بازده  $95\%$  دارد و ضریب توان آن واحد

است. اگر این ترانسفورماتور را به صورت یک اتوترانسفورماتور  $\frac{500V}{750V}$  ببندیم، بازده در بار اسمی جدید و ضریب

توان واحد کدام است؟

(۱)  $99.241\%$

(۲)  $98.276\%$

(۳)  $97.851\%$

(۴)  $95.752\%$

۴۳- یک ترانسفورماتور تک فاز نسبت دورهای  $\frac{1}{4}$  دارد، و به یک بار مقاومتی مطابق شکل زیر بسته شده است. جریان

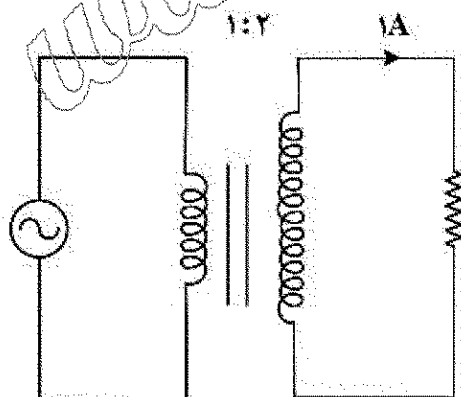
مغناطیسی که ترانسفورماتور می کشد  $1A$  و جریان ثانویه نیز  $1A$  است. اگر از تلفات هسته و راکتانس های ناشی چشم پوشی شود، جریان اولیه چند آمپر است؟

(۱) ۳

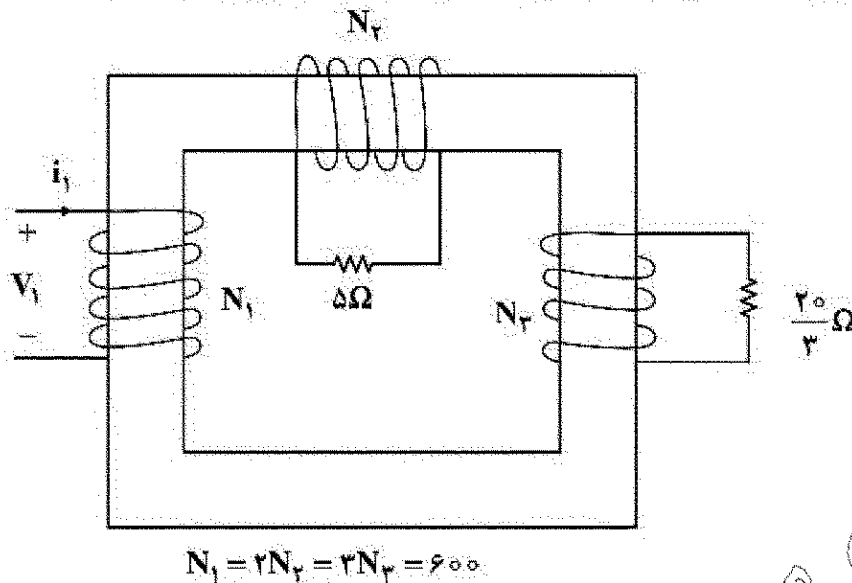
(۲)  $\sqrt{5}$

(۳) ۲

(۴)  $\sqrt{2}$



۴۴- در ترانسفورماتور سه سیم پیچ زیر، ولت مؤثر با فرکانس نامی به سیم پیچ ۱ اعمال می شود. اگر از مقاومت مغناطیسی هسته ترانسفورماتور و پراکندگی شار اطراف سیم پیچی ها صرف نظر شود، جریان  $i_1$  چند آمپر است؟



۳۵ (۱)

۳۰ (۲)

۲۰ (۳)

۱۵ (۴)

۴۵- جریان یکی از فازهای استاتور یک موتور القایی سه فاز ۶ قطبی، ۵۰ هرتز که با ولتاژ  $2000\sqrt{3}$  ولت با (اتصال ستاره) تغذیه شده است. در سرعت ۹۰۰ دور بر دقیقه  $i_s = 40\sqrt{2} \cos(100\pi t + 60^\circ)$  است. اگر تلفات اهمی روتور ۱۰/۸ کیلووات باشد، مقاومت هر فاز استاتور چند اهم است؟ (از تلفات هسته صرف نظر شود.)

۲ (۱)

۲/۵ (۱)

۱ (۲)

۱/۵ (۳)