

نام درس: مالیه عمومی (اقتصاد بخش عمومی)

تعداد سوال: نسی ۴۰ تکمیلی

تشریحی

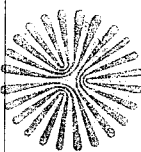
رشته تحصیلی: گرایش: تجميع (بخش مدیریت، حسابداری و اقتصاد)

زمان امتحان: نسی و تکمیلی ۶۰ دقیقه تشریحی

نقشه

کد درس: ۲۸۱۷۵۹

تعداد کل صفحات: ۶

دانشگاه پیام نور  
استان آذربایجان غربی


آزمایشگاه آزمون و ارزشیابی

۱. در دوره کلاسیک‌های اولیه بیشتر بازارها از چه ساختاری برخوردار بودند؟
  - الف. نزدیک به شرایط رقابتی
  - ب. شرایط رقابتی کامل
  - ج. شرایط انحصار کامل
  - د. شرایط رقابت انحصاری
۲. از نظر آدام اسمیت کدامیک از فعالیت‌های زیر جزء وظایف دولت نیست؟
  - الف. تولید کالاهای ضروری
  - ب. برقراری قوانین لازم جهت ایجاد نظم
  - ج. تولید کالاهای عمومی
  - د. حمایت از جامعه در مقابل دشمنان احتمالی
۳. هزینه‌های دولت برای بازنشستگی جزء کدام گروه از هزینه‌های دولت است؟
  - الف. تمام شدنی
  - ب. انتقالی
  - ج. خرید کالاها و خدمات جاری
  - د. جبران خدمات
۴. بر اساس نظریات ماسگریو ورستو، در مرحله ابتدایی رشد و توسعه اقتصادی کدامیک از عوامل زیر باعث رشد هزینه‌های دولت می‌گردد؟
  - الف. هزینه‌های سرمایه‌گذاری دولت نسبت به سرمایه‌گذاری بخش خصوصی ناچیز است.
  - ب. هزینه‌های سرمایه‌گذاری دولت نسبت به سرمایه‌گذاری کل جامعه رشد بیشتری دارد.
  - ج. هزینه‌های سرمایه‌گذاری دولت جهت ایجاد زیربناهای جامعه بخش قابل توجهی از کل سرمایه‌گذاری است.
  - د. هزینه‌های سرمایه‌گذاری اجتماعی و خدمات رفاهی دولت افزایش می‌یابد.
۵. به نظر واگنر به چه دلیلی با افزایش درآمد سرانه در یک اقتصاد، اندازه نسبی بخش عمومی هم افزایش می‌یابد؟
  - الف. هزینه‌های انتقالی دولت افزایش می‌یابد.
  - ب. هزینه‌های دولت برای ایجاد زیربنا افزایش می‌یابد.
  - ج. رأی دهندگان تمایل بیشتری به ساخت تفریحگاه توسط دولت پیدا می‌کند. ولی تمایل به پرداخت مالیات ندارند.
  - د. کشش درآمدی تقاضا برای خدمات رفاهی، بهداشت، فرهنگ زیاد است و هزینه‌های دولت به نسبت بیشتری افزایش می‌یابد.
۶. به نظر پیکاک و وایزمن در شرایط جنگ، قحطی، سوانح عمده طبیعی روند منظم در افزایش هزینه‌های دولت چه شکلی خواهد داشت؟
  - الف. تغییری نمی‌کند.
  - ب. به هم می‌ریزد.
  - ج. سیر نزولی پیدا می‌کند.
  - د. رشد نهائی پیدا می‌کند.
۷. در چه صورتی یک فعالیت اقتصادی دارای پی آمد خارجی می‌باشد؟
  - الف. هرگاه فرد یا گروه دیگری غیر از کسانی که درگیر آن فعالیت هستند را متأثر نماید.
  - ب. هرگاه آن فعالیت دارای خروجی مثبت باشد.
  - ج. هرگاه در بازار آن فعالیت هیچ تولید کشوری به تنهایی نتواند در قیمت بازار تأثیر بگذارد.
  - د. هرگاه در بازار آن فعالیت آزادی خروج از بازار برای تولیدکنندگان وجود داشته باشد.

نام درس: مالیة عمومی (اقتصاد بخش عمومی) تعداد سئوال: ۴۰ تکمیلی ... تشریحی  
 رشته تحصیلی: گرایش: تجميع (بخش مدیریت، حسابداری و اقتصاد) زمان امتحان: تستی و تکمیلی ۶۰ دقیقه تشریحی ... دقیقه  
 کلاس درس: ۲۸۱۷۵۹ تعداد کل صفحات: ۶



۸. در صورتیکه در تولید یک کالای پی آمد خارجی مثبت وجود داشته باشد سطح تولید کارآمد در چه شرایطی تعیین می شود؟  
 الف. فایده نهایی خارجی + فایده نهایی داخلی = هزینه نهایی تولید  
 ب. فایده نهایی خارجی + فایده نهایی داخلی > هزینه نهایی تولید  
 ج. قیمت کالا - فایده نهایی خارجی = هزینه نهایی تولید  
 د. قیمت کالا در بازار آزاد = هزینه نهایی تولید  
 ۹. کالاهای عمومی دارای چه ویژگیهایی هستند؟  
 الف. مورد استفاده عموم مردم می باشند و رقابت پذیر هستند.  
 ب. منافع آنها غیر قابل تخصیص و آن کالاها رقابت پذیر هستند.  
 ج. منافع آنها غیر قابل تخصیص و آن کالاها غیر قابل رقابت هستند.  
 د. توسط دولت تولید و منافع آنها قابلیت تخصیص دارند.  
 ۱۰. هزینه نهایی از کالاهای عمومی خالص چقدر است؟  
 الف. برابر هزینه متوسط تولید  
 ب. صفر  
 ج. قابل محاسبه نیست.  
 د. برابر مطلوبیت نهایی مصرف آن  
 ۱۱. وقتی که افراد بتوانند بدون پرداخت قیمت کالای، آن کالا را مصرف نمایند چه پدیده ای در اقتصاد مطرح می شود؟  
 الف. رشد اقتصادی ب. سواری مجانی ج. ازدحام د. رقابت پذیری  
 ۱۲. منحنی تقاضای کل برای کالاها و خدمات عمومی چگونه بدست می آید؟  
 الف. از جمع افقی منحنی های تک تک افراد  
 ب. از جمع افقی و عمودی منحنی های تک تک افراد  
 ج. از مقایسه قیمت کالاها و خصوصی با قیمت کالای عمومی  
 د. از جمع عمودی منحنی های تک تک افراد  
 ۱۳. کدامیک از گزینه های زیر از منابع درآمدی خانواده ها نیست؟  
 الف. دستمزد و حقوق ب. منافع حاصل از کاهش  
 ج. دارایی ها و اموال د. از طریق دولت  
 ۱۴. کدامیک از گزینه های زیر صحیح است؟  
 الف. اگر توزیع درآمد کاملاً برابر باشد ضریب جینی برابر صفر است.  
 ب. اگر توزیع درآمد کاملاً نابرابر باشد ضریب جینی برابر صفر است.  
 ج. ضریب جینی مساوی مساحت سطح فاصله بین منحنی لورنز و خط برابری کامل است.  
 د. هر چه منحنی لورنز بیشتر نسبت به محور افقی محدب باشد توزیع درآمد برابرتر است.



تعداد سؤالات: نسی ۴۰ تکمیلی

زمان امتحان: نسی و تکمیلی ۶۰ دقیقه

تعداد کل صفحات:

نام درس: مالیات عمومی (اقتصاد بخش عمومی)

رشته تحصیلی: گرایش: تجميع (بخش مدیریت، حسابداری و اقتصاد)

کلاس: ۲۸۱۷۵۹

اداره آزمون و ارزشیابی

۱۵. زیربنای فکری مطلوبیون در توزیع مجدد درآمد چیست؟
  - الف. یک تومان درآمد اضافی برای یک ثروتمند ارزشی برابر یک تومان درآمد بیشتر برای فقیر دارد.
  - ب. مطلوبیت اضافی یک تومان درآمد برای یک ثروتمند بیشتر از یک تومان درآمد برای فقیر دارد.
  - ج. تابع مطلوبیت برای افراد ثروتمند و فقیر مشابه و یکسان نمی باشد.
  - د. یک تومان درآمد اضافی برای یک ثروتمند ارزشی کمتر از یک تومان درآمد بیشتر برای فقیر را دارد.
۱۶. کدام گزینه در خصوص تشکیلات تأمین اجتماعی و بازنشستگی صحیح است؟
  - الف. تشکیلات تأمین اجتماعی و بازنشستگی ارتباطی با شهرنشینی و صنعت دارد.
  - ب. تشکیلات تأمین اجتماعی و بازنشستگی ارتباط نزدیک با شهرنشینی و صنعت دارد.
  - ج. تکامل سیستم تأمین اجتماعی مخصوصاً در کشورهای در حال توسعه بسیار سریع انجام گرفته است.
  - د. تأمین مالی برنامه های تأمین اجتماعی صرفاً از طریق دولت صورت می گیرد.
۱۷. کدام گزینه از نظر «توماس هابز» صحیح است؟
  - الف. مکانیزم بازار باعث کاهش انگیزه کار می شود.
  - ب. در بازار، عوامل تولید بیشتر از بهره وری خود، دریافت می نمایند.
  - ج. مکانیزم بازار باعث ناعادلانه شدن درآمدها می شوند.
  - د. مکانیزم بازار خود عادلانه عمل می کند.
۱۸. پرداخت مستمری بازنشستگی توسط سازمان تأمین اجتماعی جزء کدامیک از حمایت های زیر است؟
  - الف. حمایت های درمانی
  - ب. حمایت های کوتاه مدت
  - ج. حمایت های بلندمدت
  - د. حمایت های فرهنگی
۱۹. از نظر تحلیل های خرد اقتصادی مالیات چه اثراتی دارند؟
  - الف. تورمی و رکوردی
  - ب. هیچ
  - ج. تخصیص و توزیع
  - د. سیاسی
۲۰. کدامیک از گزینه های زیر صحیح است؟
  - الف. از نظر کلاسیک ها مالیات ها، ابزار سیاست های اقتصادی دولت است.
  - ب. از نظر کینز مالیات ها، برای اجرای سیاست های اقتصادی دولت نیز کارآمد است.
  - ج. هر چه سهم درآمد مالیاتی نسبت به درآمد ملی بیشتر باشد تأثیر تغییر در سیاست های مالیاتی کمتر است.
  - د. هر نوع مالیاتی مالیات بر ذخیره ثروت محسوب می شود.
۲۱. مالیات های بر بازار و مالیات های بر مصرف اصولاً مشمول چه نوع مالیاتی است؟
  - الف. تنازلی
  - ب. تصاعدی
  - ج. نسبی
  - د. متوسط
۲۲. عوارضی که شهرداری ها از دارندگان اتومبیل جمع آوری می نمایند مبتنی بر چه قاعده ای است؟
  - الف. اصل فایده
  - ب. اصل توانائی پرداخت
  - ج. اصل توزیع مجدد
  - د. اصل برابری افقی

نام درس: مالیات عمومی (اقتصاد بخش عمومی)

تعداد سئوال: ۳۰ تکمیلی

نظریتی

رشته تحصیلی: گرایش: تجميع (بخش مدیریت، حسابداری و اقتصاد)


زمان امتحان: تئوری و تکمیلی

تئوری

تکمیلی

کد درس: ۲۸۱۷۵۹

تعداد کل صفحات: ۴۰



اداره آزمون و ارزشیابی

۲۳. از نظر فیشتر کدام گزینه در خصوص مالیات صحیح است؟

الف. درآمد یک پایه مالیاتی مناسب است.

ب. مالیات بر درآمد باعث کاهش سرمایه‌گذاری می‌شود.

ج. ثروت مناسبترین پایه مالیاتی است.

د. مصرف معیار مناسب وضعیت رفاهی یک خانوار نیست.

۲۴. کدام گزینه صحیح است؟

الف. بهر صورتی که از نظر قانونی مالیات‌ها پرداخت شوند پرداخت کننده مالیات تشکیلات و بازارها هستند.

ب. وقتی مالیات مستقیماً بر خانوارها برقرار می‌شود. بار مالیات الزاماً بوسیله خانوارهایی که مالیات بر آنها برقرار شده پرداخت می‌گردد.

ج. مالیات بر مجموعه مصرف بجای یک یا چند کالا فرار از مالیات را آسان خواهد کرد.

د. انتقال بار مالیاتی زمانی رخ می‌دهد که خانوارها در جهت اجتناب از پرداخت مالیات در رفتار اقتصادی خود تغییر می‌دهند.

با توجه به نمودار زیر به سئوالهای ۲۵، ۲۶، ۲۷، ۲۸ پاسخ دهید. (وضع مالیات بر واحد فروش)

۲۵. با فرض مالیات بر واحد فروش، منحنی  $AR_{II}$  چه چیزی را نشان می‌دهد؟

الف. مالیات دریافتی برای هر مقدار از کالا

ب. قیمت برای عرضه کننده پس از مالیات

ج. قیمت پرداختی توسط مصرف کننده قبل از مالیات

د. منحنی فایده نهائی برای مصرف کننده بعد از مالیات

۲۶. قیمت پرداختی توسط مصرف کننده بعد از وضع مالیات چقدر است؟

الف.  $oP_o$  ب.  $oP_f$  ج.  $op_g$  د.  $oh$ 

۲۷. کل مالیات دریافتی توسط دولت چقدر است؟

الف.  $P_o P_f te$  ب.  $P_o eg P_g$  ج.  $P_f f_g P_g$  د.  $gfe$ 

۲۸. سهم مصرف کننده از کل مالیات چقدر است؟

الف.  $P_f f_k P_o$  ب.  $P_f fe P_o$  ج.  $gfe$  د.  $kfe$ 

۲۹. هر چقدر کشش منحنی عرضه کمتر باشد.....

الف. سهم مالیات عرضه کنندگان کمتر است.

ب. سهم مالیات مصرف کنندگان کمتر است.

ج. سهم مالیات مصرف کنندگان بیشتر است.

د. سهم مالیات عرضه کنندگان برابر مصرف کنندگان است.

نام درس: مالیه عمومی (اقتصاد بخش عمومی)  
 رشته تحصیلی: گرایش: تجميع (بخش مدیریت، حسابداری و اقتصاد)  
 تعداد سؤالات: ۲۰ تکمیلی ۶۰  
 زمان امتحان: ۹۰ دقیقه  
 تعداد کل صفحات: ۶

کد درس: ۲۸۱۷۵۹



۳۰. کدام گزینه صحیح است:

- الف. سوبسید در بازار کالاهای اساسی بیشتر متوجه عرضه کنندگان است.  
 ب. مالیات در بازار کالاهای لوکس بیشتر متوجه مصرف کنندگان است.  
 ج. سوبسید در بازار محصولات کشاورزی بیشتر متوجه کشاورزان می شود.  
 د. سوبسید در بازار کالاهای لوکس باعث کاهش تولید آن می شود.

۳۱. برقراری مالیات بر قیمت در بازار انحصاری می تواند .....

- الف. اثر عدم کارآئی کمتری نسبت به مالیات بر واحد داشته باشد.  
 ب. اثر عدم کارآئی بیشتری نسبت به مالیات بر واحد داشته باشد.  
 ج. باعث ایجاد کارآئی بیشتری نسبت به بازار رقابتی شود.  
 د. باعث افزایش تولید و کاهش قیمت گردد.

۳۲. مالیات بر دستمزد و حقوق چه اثراتی دارد؟

- الف. باعث کاهش عرضه کار می شود.  
 ب. اثر قطعی آن بر عرضه کار نامشخص است.  
 ج. باعث افزایش عرضه کار می شود.  
 د. هیچ تأثیری بر عرضه کار ندارد.

۳۳. با توجه به معادله سود شرکتها، « $\pi = R - WL - \theta rk$ » در چه صورت محاسبه سرمایه مستهلک شده برابر نرخ واقعی استهلاک اقتصادی است؟

- الف.  $\theta < 1$  ب.  $\theta > 1$  ج.  $\theta = 0$  د.  $\theta = 1$

۳۴. اگر یک ماشین به ارزش ۱/۰۰۰/۰۰۰ ریال توسط شرکتی خریداری شود و عمر مفید این ماشین ۱۰ سال در نظر گرفته شود به روش کسر جمع سالهای عمر سرمایه، ذخیره استهلاک برای سال اول چقدر است؟

- الف. ۱۸۱۸۱۸/۱۸ ب. ۲۰۰/۰۰۰ ج. ۱۵۰/۰۰۰ د. ۱۲۷۵۲۱/۲۱

۳۵. بر اساس قانون محاسبات عمومی کدامیک از گزینه ها جزء مراحل چهارگانه بودجه نیست؟

- الف. تهیه و تنظیم ب. تصویب ج. تأمین اعتبار د. نظارت

۳۶. نظارت دیوان محاسبات بر عملکرد بودجه جزء کدامیک از انواع نظارت هاست؟

- الف. نظارت قضائی ب. نظارت اداری ج. نظارت حسابداری د. نظارت پارلمانی

۳۷. بر اساس چه اصلی از اصول بودجه، دولت باید بودجه را بصورت مشمروح و با جزئیات آن تهیه و تنظیم و به مجلس پیشنهاد نماید؟

- الف. تخصیص بودجه ب. کاملیت ج. شمولیت د. وحدت بودجه



تعداد سئوال: نسی ۴۰ تکمیلی

نام درس: مالیه عمومی (اقتصاد بخش عمومی)

زمان امتحان: تستی و تکمیلی ۶۰ دقیقه تشریحی

رشته تحصیلی: گرایش: تجميع (بخش مدیریت، حسابداری و اقتصاد)

کد درس: ۲۸۱۷۵۹

تعداد کل صفحات: ۶

۳۸. کدامیک از گزینه‌های زیر نتیجه فعالیت‌ها و تصمیمات دولت هستند؟

الف. استخدام عامل کار ب. پرداخت‌های انتقالی

ج. نرخ مالیات‌ها د. مقدار بدهی

۳۹. اگر دولت هزینه‌های خود را به مقدار ۱۰۰۰ میلیارد ریال افزایش دهد و میل نهائی به مصرف ۰/۷۵ باشد تولید ملی چه میزان تغییر خواهد کرد؟

الف. ۳۰۰۰ ب. ۷۵۰۰۰ ج. ۲۵۰۰۰ د. ۴۰۰۰

۴۰. اگر دولت مخارج خود را به میزان پانصد واحد پولی کاهش دهد و میزان مالیات‌ها نیز برابر ۵۰۰ واحد پولی کاهش یابد، تولید ملی چه تغییری خواهد کرد؟

الف. ۵۰۰ واحد اضافه می‌شود. ب. ۵۰۰ واحد کاهش می‌یابد.

ج. تغییری نمی‌کند. د. ۱۰۰۰ واحد کاهش می‌یابد.