


کد کنترل

516

F




516F

آزمون (نیمه متمرکز) ورود به دوره های دکتری - سال ۱۴۰۲

دفترچه شماره (۱)

صبح پنجشنبه
۱۴۰۱/۱۲/۱۱



جمهوری اسلامی ایران
وزارت علوم، تحقیقات و فناوری
سازمان سنجش آموزش کشور

«اگر دانشگاه اصلاح شود مملکت اصلاح می شود.»
امام خمینی (ره)

مهندسی معدن - استخراج مواد معدنی (کد ۲۳۳۶)

زمان پاسخ گویی: ۱۳۵ دقیقه

تعداد سؤال: ۴۵

عنوان مواد امتحانی، تعداد و شماره سؤالات

| ردیف | مواد امتحانی | تعداد سؤال | از شماره | تا شماره |
|------|--|------------|----------|----------|
| ۱ | مجموعه دروس تخصصی: - تحقیق در عملیات - معدن کاری سطحی پیشرفته - معدن کاری زیرزمینی پیشرفته | ۴۵ | ۱ | ۴۵ |

این آزمون نمره منفی دارد.

استفاده از ماشین حساب مجاز نیست.

حق چاپه تکثیر و انتشار سؤالات به هر روش (الکترونیکی و...) پس از برگزاری آزمون، برای تمامی اشخاص حقیقی و حقوقی تنها با مجوز این سازمان مجاز می باشد و یا متخلفین برابر مقررات رفتار می شود.

* داوطلب گرامی، عدم درج مشخصات و امضا در مندرجات جدول زیر، به منزله عدم حضور شما در جلسه آزمون است.

اینجانب با شماره داوطلبی با آگاهی کامل، یکسان بودن شماره صندلی خود با شماره داوطلبی مندرج در بالای کارت ورود به جلسه، بالای پاسخنامه و دفترچه سؤالات، نوع و کد کنترل درج شده بر روی جلد دفترچه سؤالات و پایین پاسخنامه ام را تأیید می‌نمایم.

امضا:

مجموعه دروس تخصصی تحقیق در عملیات - معدن کاری سطحی پیشرفته - معدن کاری زیرزمینی پیشرفته:

۱- در یک کارخانه سنگبری برای تولید محصول A و B، از دو دستگاه برش و ساب استفاده می‌شود. ظرفیت اسمی و هزینه تولید هر دستگاه به صورت زیر است. تابع هدف مسئله برای تعیین تعداد بهینه تولید محصولات کدام است؟

| دستگاه | ظرفیت تولید محصول B در هر ساعت | ظرفیت تولید محصول A در هر ساعت | هزینه هر ساعت |
|--------|-----------------------------------|-----------------------------------|---------------|
| برش | ۴۰ | ۱۰ | ۲۰ |
| ساب | ۳۰ | ۲۰ | ۳۰ |

$$\text{Min } Z = 20x_A + 30x_B \quad (2)$$

$$\text{Min } Z = 3/5x_A + 1/5x_B \quad (1)$$

$$\text{Min } Z = 30x_A + 70x_B \quad (4)$$

$$\text{Min } Z = 10x_A + 40x_B \quad (3)$$

۲- شرکتی دو منطقه جدید را برای استخراج مواد معدنی کشف کرده است. تولید سالانه این مناطق داده شده است. این شرکت نیاز به احداث کارخانه فرآوری برای مواد معدنی استخراج شده دارد. سه محل A، B و C با ظرفیت‌های سالانه و سرمایه اولیه مشخص برای این منظور وجود دارد. هزینه حمل هر تن ماده معدنی از هر منطقه به کارخانه فرآوری داده شده است. مسئله برنامه ریاضی حداقل سازی کل هزینه احداث کارخانه فرآوری و ارسال مواد معدنی از مناطق استخراجی به کارخانه فرآوری چند متغیر و چند محدودیت دارد؟

$$(2) \quad 8 \text{ متغیر و } 6 \text{ محدودیت}$$

$$(1) \quad 8 \text{ متغیر و } 5 \text{ محدودیت}$$

$$(4) \quad 9 \text{ متغیر و } 6 \text{ محدودیت}$$

$$(3) \quad 9 \text{ متغیر و } 5 \text{ محدودیت}$$

۳- در یک کارخانه زمان لازم برای تولید هر واحد محصول A نصف زمان لازم برای تولید هر واحد محصول B و دو برابر زمان لازم برای تولید هر واحد محصول C است. اگر کل زمان صرف تولید واحد B شود، می‌توان ۲۰۰ واحد از محصول B را ساخت. با فرض اینکه A، B و C تعداد تولید هر یک از محصولات باشد، کدام محدودیت معادل شرایط مذکور است؟

$$(2) \quad A + 2B + 4C \leq 800$$

$$(1) \quad 2A + B + 4C \leq 400$$

$$(4) \quad 2A + 4B + C \leq 800$$

$$(3) \quad A + 2B + 4C \leq 400$$

۴- برای حل مسئله برنامه ریزی خطی زیر به چند متغیر کمکی نیاز است؟

$$\text{Max } Z = 5x_1 + 4x_2 + 6x_3 + 6x_4$$

(۱) صفر

$$\text{s.t.} \quad x_1 + 2x_2 + x_3 + x_4 = 20$$

(۲) ۲

$$2x_2 + x_3 + x_4 = 10$$

(۳) ۳

$$x_3 + x_4 = 6$$

(۴) ۶

$$x_1, x_2, x_3, x_4 \geq 0$$

۵- مقدار بهینه تابع هدف مسئله برنامه ریزی خطی زیر کدام است؟

$$\begin{aligned} \text{Max } Z &= 2x_1 + 6x_2 + 8x_3 & (1) \quad 10 \\ \text{s.t.} \quad x_1 + 4x_2 + 2x_3 &\leq 20 & (2) \quad 20 \\ x_1 + 3x_2 + 4x_3 &= 10 & (3) \quad 30 \\ x_1 + x_2 + x_3 &\geq 2 & (4) \quad 32 \\ x_1, x_2, x_3 &\geq 0 \end{aligned}$$

۶- تعداد مراحل حل مدل برنامه ریزی خطی با روش دو مرحله ای نسبت به روش M بزرگ دارای کدام شرایط است؟

(۱) بسته به تعداد متغیرهای کمکی و مصنوعی متفاوت است.

(۲) نسبت به روش M بزرگ یک جدول بیشتر دارد.

(۳) نسبت به روش M بزرگ یک جدول کمتر دارد.

(۴) در هر دو روش یکسان است.

۷- قسمتی از جدول اول و نهایی (بهینه) یک مسئله برنامه ریزی خطی به صورت زیر داده شده است. مقدار بهینه تابع

هدف کدام است؟

| | | Z | x_1 | x_2 | s_1 | s_2 | s_3 | RHS |
|------------|-------|---|-------|-------|-------|-------|-------|-----|
| اولین جدول | Z | ۱ | -۴ | -۳ | | | | |
| | | | | | | | | |
| | | | | | | | | |
| | | | | | | | | |
| جدول نهایی | Z | | | | | | | ? |
| | x_2 | | | | | | | ۱ |
| | x_1 | | | | | | | ۲ |
| | s_3 | | | | | | | ۰ |

۸- قسمتی از جدول اول و نهایی (بهینه) یک مسئله برنامه ریزی خطی به صورت زیر داده شده است. مقدار A کدام است؟

| متغیر اساسی | Z | x_1 | x_2 | x_3 | s_1 | s_2 | R.H.S |
|-------------|---|-------|-------|-------|-------|-------|-------|
| Z | | | | | | | ۰ |
| s_1 | | | | | | | ۱۰ |
| s_2 | | | | | | | ۶ |
| Z | ۰ | ۲ | ۰ | ۲ | ۵ | A | ۱۲۲ |
| x_2 | | | | | | | |
| x_1 | | | | | | | |

(۱) ۷

(۲) ۹

(۳) ۱۲

(۴) ۳۴

۹- تابلوی نهایی زیر چه حالت خاصی را نشان می دهد؟

| | Z | x_1 | x_2 | s_1 | s_2 | RHS |
|-------|---|-------|-------|-------|-------|-----|
| Z | ۱ | ۰ | ۰ | ۲ | ۲ | ۱۲ |
| x_1 | ۰ | ۱ | ۰ | ۰ | ۱ | ۴ |
| x_2 | ۰ | ۰ | ۱ | -۱ | ۲ | ۶ |

(۱) ناحیه موجه نامحدود، جواب بهینه محدود

(۲) ناحیه موجه نامحدود، جواب بهینه نامحدود

(۳) ناحیه موجه محدود، جواب بهینه محدود

(۴) ناحیه موجه محدود، جواب بهینه نامحدود

۱۰- در مدل حمل و نقل زیر بعضی از جواب های بهینه درج شده است و می دانیم مقدار بهینه تابع هدف ۲۴۰ است.

مقدار ؟ کدام است؟

| عرضه | کارخانه ۱ | کارخانه ۲ | کارخانه ۳ | |
|---------|-----------|-----------|-----------|----|
| معادن A | ۳ | ۹ | ۱ | ۱۰ |
| معادن B | ۱ | ۲ | ۴ | ۲۰ |
| معادن C | ۲ | ۸ | ۶ | ۱۰ |
| تقاضا | ۵ | ۳۰ | ۵ | ۴۰ |

(۱) ۶

(۲) ۷

(۳) ۸

(۴) ۹

۱۱- در مدل حمل و نقل زیر اگر جواب داده شده بهینه باشد، چه شرایطی برای پارامترهای a و b برقرار خواهد بود؟

| عرضه | نیروگاه ۱ | نیروگاه ۲ | نیروگاه ۳ | |
|---------|-----------|-----------|-----------|-----|
| معادن A | a | ۷ | ۹ | ۱۵۰ |
| معادن B | ۶ | b | ۵ | ۲۵۰ |
| تقاضا | ۱۰۰ | ۵۰ | ۲۵۰ | ۴۰۰ |

(۱) $a=12$ $b=2$

(۲) $a=6$ $b=8$

(۳) $a=6$ $b=9$

(۴) $a=12$ $b=8$

۱۲- در مدل تخصیص زیر هدف تخصیص اپراتورها به ماشین های مختلف با حداقل هزینه است. قرار است اپراتور ۱

حتماً به ماشین ۱ و اپراتور ۲ هرگز به ماشین ۲ تخصیص نیابد. هزینه نهایی تخصیص کدام است؟

| | ماشین ۱ | ماشین ۲ | ماشین ۳ | ماشین ۴ | ماشین ۵ |
|-----------|---------|---------|---------|---------|---------|
| اپراتور ۱ | ۱۳ | ۳ | ۱ | ۴ | ۳ |
| اپراتور ۲ | ۵ | ۱ | ۳ | ۷ | ۱ |
| اپراتور ۳ | ۲ | ۴ | ۲ | ۲ | ۱ |
| اپراتور ۴ | ۳ | ۴ | ۱ | ۳ | ۲ |
| اپراتور ۵ | ۵ | ۳ | ۴ | ۲ | ۳ |

(۱) ۱۸

(۲) ۲۰

(۳) ۲۲

(۴) ۲۴

۱۳- در مدل تخصیص زیر کدام یک از حالت‌های عنوان‌شده در حالت بهینه امکان‌پذیر نیست؟

| | معدن ۱ | معدن ۲ | معدن ۳ |
|---------|--------|--------|--------|
| ماشین ۱ | ۱۶ | ۱۴ | ۱۳ |
| ماشین ۲ | ۲۰ | ۱۶ | ۱۵ |
| ماشین ۳ | ۱۸ | ۱۸ | ۱۸ |

- (۱) ماشین ۱ به معدن ۲
(۲) ماشین ۱ به معدن ۳
(۳) ماشین ۳ به معدن ۳
(۴) ماشین ۳ به معدن ۱

۱۴- کدام عبارت در مورد روش صفحات برش برای یک مسئله برنامه‌ریزی خطی با اعداد صحیح، نادرست است؟

- (۱) در هر تکرار روش به انجام روش سیمپلکس اولیه نیاز است.
(۲) در هر تکرار روش به انجام روش سیمپلکس ثانویه نیاز است.
(۳) تعداد تکرارهای روش برای به دست آوردن جواب صحیح نامشخص است.
(۴) در هر تکرار یک محدودیت به مسئله اضافه می‌شود که قسمتی از ناحیه غیرصحیح را حذف می‌کند.
- ۱۵- مسئله برنامه‌ریزی با اعداد صحیح زیر را در نظر بگیرید. جواب بهینه برنامه‌ریزی خطی به صورت $Z = 7/6$ و $x_1 = 2/6$ و $x_2 = 0/8$ است. کدام مورد جواب بهینه عدد صحیح را مشخص می‌کند؟

$$\text{Min } Z = 2x_1 + 3x_2$$

$$\text{s.t. } x_1 + 3x_2 \geq 5$$

$$4x_1 + x_2 \geq 6$$

$$x_1, x_2 \geq 0$$

$$(1) \quad x_1 = 2 \text{ و } x_2 = 1 \text{ و } Z = 7$$

$$(2) \quad x_1 = 3 \text{ و } x_2 = 0 \text{ و } Z = 6$$

$$(3) \quad x_1 = 2 \text{ و } x_2 = 0 \text{ و } Z = 4$$

$$(4) \quad x_1 = 3 \text{ و } x_2 = 1 \text{ و } Z = 9$$

و هر دو صحیح

۱۶- با توجه به مدل بلوکی اقتصادی شکل زیر، در صورتی که محدوده بهینه روباز با استفاده از روش برنامه‌ریزی پویا و با شیب ۱:۱ طراحی شود، تعداد بلوک‌ها در محدوده نهایی و همچنین ارزش آنها به ترتیب کدام است؟

| | | | | | | | |
|----|----|----|----|----|----|----|----|
| -۳ | -۳ | -۳ | -۳ | -۳ | -۳ | -۳ | -۳ |
| -۳ | -۳ | -۳ | ۸ | -۳ | -۳ | ۴ | -۳ |
| -۳ | -۳ | ۱۵ | -۳ | ۵ | ۱۵ | -۳ | -۳ |

$$(1) \quad 9 \text{ و } 2+$$

$$(2) \quad 9 \text{ و } 8+$$

$$(3) \quad 16 \text{ و } 6+$$

$$(4) \quad 17 \text{ و } 11+$$

۱۷- با توجه به مدل بلوکی اقتصادی شکل زیر، در صورتی که محدوده بهینه روباز با استفاده از روش مخروط شناور و با شیب ۱:۱ طراحی شود، چند محدوده بهینه به دست می‌آید؟

| | | | | | | | |
|----|----|----|----|----|----|----|----|
| -۳ | -۳ | -۳ | -۳ | -۳ | -۳ | -۳ | -۳ |
| -۳ | -۳ | -۳ | ۸ | -۳ | -۳ | ۴ | -۳ |
| -۳ | -۳ | ۱۵ | -۳ | ۵ | ۱۵ | -۳ | -۳ |

$$(1) \quad \text{دو محدوده بهینه به ارزش ۲ و ۶}$$

$$(2) \quad \text{یک محدوده بهینه به ارزش ۶}$$

$$(3) \quad \text{یک محدوده بهینه به ارزش ۲}$$

$$(4) \quad \text{دو محدوده بهینه به ارزش ۶ و ۱۱}$$

۱۸- مدل وریوگرام در یک کانسار به صورت زیر است. در صورتی که عیار ماده معدنی در نقاط A و B به ترتیب برابر ۱۰ و ۵ درصد باشد، عیار ماده معدنی در نقطه P با روش کریجینگ چند درصد است؟ (طول PA برابر ۱۶ و طول PB برابر ۳۲ متر است.)

$$\gamma(h) = 4 + 0.5h \quad h \leq 40$$

$$\gamma(h) = 24 \quad h \geq 40$$



(۱) ۶/۵

(۲) ۷/۵

(۳) ۸

(۴) ۸/۵

۱۹- عیار نمونه‌ها در یک مدل بلوکی بر حسب گرم بر تن در شکل الف نشان داده شده است. در صورتی که از روش نزدیک‌ترین نقاط برای تخمین عیار بلوک‌ها استفاده شود با توجه به اطلاعات زیر سود واقعی چند واحد پول است؟ (عیار واقعی بلوک‌ها در شکل ب نشان داده شده است.)

| | | |
|---|----|---|
| ۳ | ۱۰ | ۸ |
| • | • | • |
| ۴ | ۲ | ۷ |
| • | • | • |

الف

| | | |
|---|---|---|
| ۲ | ۸ | ۶ |
| • | • | • |
| ۹ | ۷ | ۴ |
| • | • | • |

ب

عیار واحد سربه سری ۵ گرم بر تن
سود هر واحد عیار بالاتر از عیار جد سربه سری ۲۰۰ واحد پول
هزینه برداشت هر بلوک باطله ۱۰۰ واحد پول

(۱) ۶۰۰

(۲) ۹۰۰

(۳) ۱۲۰۰

(۴) ۱۶۰۰

۲۰- ارزش محدوده بهینه نهایی با روش کوروبوف و با شیب ۱:۱ در مدل بلوکی اقتصادی زیر کدام است؟

| | | | | | | |
|----|----|----|----|----|----|----|
| -۳ | -۳ | -۳ | -۳ | -۳ | -۳ | -۳ |
| -۳ | -۳ | -۳ | -۳ | ۶ | -۳ | -۳ |
| -۳ | -۳ | ۱۳ | -۳ | ۱۲ | -۳ | -۳ |

(۱) -۲

(۲) صفر

(۳) ۱

(۴) ۲

۲۱- اگر در یک معدن روباز قیمت ماده معدنی و هزینه‌ها به ترتیب ۲ و ۶ برابر شود، نسبت باطله برداری سربه سری چند برابر می‌شود؟

(۱) $\frac{1}{3}$

(۲) ۳

(۳) کمتر از $\frac{1}{3}$

(۴) بیشتر از $\frac{1}{3}$

۲۲- واریانس نمونه‌ها در یک کانسار برابر ۲۱ مجذور درصد و واریانس بلوک‌هایی به ابعاد $20 \times 15 \times 10$ متر در کانسار برابر ۱۳ مجذور درصد است. واریانس نمونه‌ها در بلوک چند مجذور درصد است؟

(۱) ۸

(۲) ۱۳

(۳) ۱۵

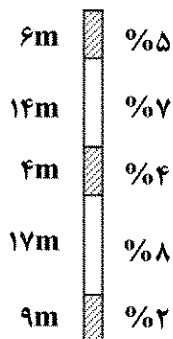
(۴) ۱۷

۲۳- کدام مورد درست است؟

- (۱) در روش ۹:۱ در مدل های بلوکی به ابعاد یکسان، زاویه شیب ۴۵ درجه در همه جهات به دست می آید.
- (۲) در روش وانگ و سویم ابتدا مخروط دارای کمترین عیار متوسط به عنوان فاز آخر جدا می شود.
- (۳) روش مخروط شناور ۲ قادر است در همه مدل ها محدوده بهینه واقعی را محاسبه نماید.
- (۴) در روش های وانگ و سویم و گرشون از مخروط استخراجی رو به بالا استفاده می شود.

۲۴- در شکل زیر عیار و طول نمونه ها در یک گمانه اکتشافی نشان داده شده است. این گمانه به ۵ کامپوزیت ۱۰ متری

تقسیم شده است، عیار متوسط کامپوزیت سوم از بالا چند درصد است؟



(۱) ۴/۶

(۲) ۶/۴

(۳) ۷

(۴) ۸

۲۵- واریانس خطای تخمین عیار بلوک ها، در مدل بلوکی به کدام عامل بستگی ندارد؟

(۲) عیار نمونه ها

(۱) اندازه بلوک

(۴) موقعیت نمونه ها نسبت به بلوک

(۳) موقعیت نمونه ها نسبت به هم دیگر

۲۶- در یک کانسار مس بوفیری هزینه های ذوب، پالایش و ارسال محصول نهایی در حال حاضر ۲۰٪ قیمت محصول

نهایی را تشکیل می دهد. در صورتی که تمام عوامل و هزینه ها ثابت بماند و فقط به طور ناگهانی قیمت محصول

نهایی دوبرابر شود، عیار حد آستانه اقتصادی چند برابر قبلی خواهد شد؟

(۱) $\frac{2}{3}$

(۲) $\frac{1}{2}$

(۳) $\frac{4}{9}$

(۴) $\frac{1}{3}$

۲۷- در صورتی که محدوده بهینه مدل روباز در یک مقطع قائم از کانساری به صورت شکل زیر باشد (اعداد بالا شماره

بلوک و اعداد پایین عیار ماده معدنی در بلوک) و برنامه ریزی تولید برای ۴ فاز با روش گرشون انجام شود،

کدام یک از بلوک ها در فاز سوم استخراج می شوند؟

| | | | | | |
|---|---|----|----|----|---|
| ۱ | ۲ | ۳ | ۴ | ۵ | ۶ |
| | ۵ | ۳ | ۴ | ۷ | ۱ |
| | ۷ | ۸ | ۹ | ۱۰ | ۳ |
| | | ۴ | ۵ | ۶ | |
| | | ۱۱ | ۱۲ | | |
| | | | ۷ | ۹ | |

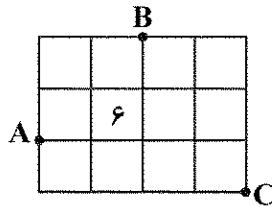
(۱) ۸ و ۷ و ۱

(۲) ۵ و ۹ و ۱۰

(۳) ۱ و ۶ و ۱۰

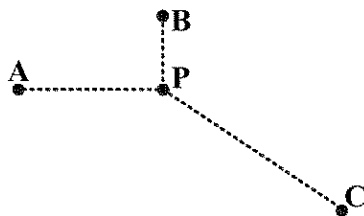
(۴) ۲ و ۶ و ۱۰

۲۸- عیار ماده معدنی در نقاط A، B و C به ترتیب برابر ۸٪، ۷٪ و ۳٪ و همچنین ابعاد بلوک‌ها ۲۰ متر در ۲۰ متر است. عیار متوسط ماده معدنی در بلوک ۶ (شکل زیر)، با استفاده از روش مثلثی با درون‌یابی خطی چند درصد است؟



- (۱) ۶
(۲) ۶/۶۵
(۳) ۷
(۴) ۷/۵۵

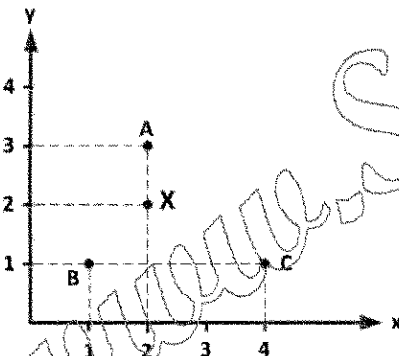
۲۹- با توجه به شکل زیر، در صورتی که عیار ماده معدنی در نقطه P با استفاده از عیار ماده معدنی در نقاط A، B و C با سه روش عکس فاصله، عکس مجذور فاصله و نزدیکترین نقاط تخمین زده شود، کدام یک از گزینه‌های زیر در مورد ضریب وزنی نمونه واقع در نقطه B درست است؟ ($CP = 30\text{ m}$ ، $BP = 10\text{ m}$ ، $AP = 20\text{ m}$)



λ_{B1} ضریب وزنی نمونه B به روش عکس فاصله
 λ_{B2} ضریب وزنی نمونه B به روش عکس مجذور فاصله
 λ_{B3} ضریب وزنی نمونه B به روش نزدیکترین نقاط

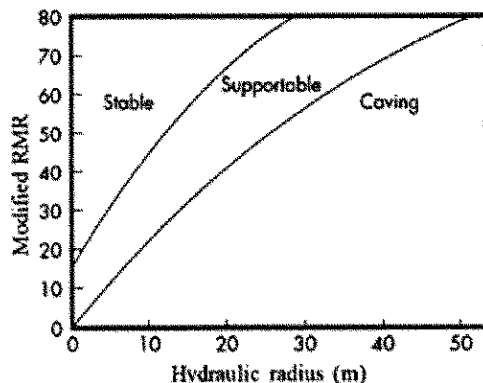
- (۱) $\lambda_{B1} = \lambda_{B2} = \lambda_{B3}$
(۲) $\lambda_{B1} > \lambda_{B2} > \lambda_{B3}$
(۳) $\lambda_{B2} > \lambda_{B1} > \lambda_{B3}$
(۴) $\lambda_{B3} > \lambda_{B2} > \lambda_{B1}$

۳۰- در صورتی که از عیار ماده معدنی در نقاط A، B و C برای تخمین عیار نقطه X استفاده شود، عیار نقطه X با روش عکس مجذور فاصله کدام است؟



- (۱) $g_X = \frac{4}{9}g_A + \frac{1}{9}g_B + \frac{2}{9}g_C$
(۲) $g_X = \frac{4}{9}g_A + \frac{2}{9}g_B + \frac{1}{9}g_C$
(۳) $g_X = \frac{10}{17}g_A + \frac{4}{17}g_B + \frac{3}{17}g_C$
(۴) $g_X = \frac{10}{17}g_A + \frac{5}{17}g_B + \frac{2}{17}g_C$

۳۱- در یک بلوک ماده معدنی به ابعاد $40\text{ m} \times 200\text{ m}$ (نمای بالا)، اگر RMR اصلاح شده ۵۰ باشد، با توجه به نمودار



لابسچر، روش استخراج مناسب کدام است؟

- (۱) انبارهای
(۲) تخریب بلوکی
(۳) کندن و پرکردن
(۴) استخراج از طبقات فرعی

۳۲- در بحث جریان ثقلی مواد و ایجاد بیضوی‌های سست‌شدگی و تخلیه، خروج از مرکز این بیضوی‌ها با کدام یک از عوامل زیر رابطه مستقیم دارد؟

- (۱) قابلیت تحرک مواد، ارتفاع جریان ثقلی، وزن مخصوص مواد
- (۲) ارتفاع جریان ثقلی، وزن مخصوص مواد، اندازه متوسط سنگ‌ها
- (۳) قابلیت تحرک مواد، اندازه متوسط سنگ‌ها، وزن مخصوص مواد
- (۴) قابلیت تحرک مواد، ارتفاع جریان ثقلی، اندازه متوسط سنگ‌ها

۳۳- در بحث جریان ثقلی مواد، کدام یک از پارامترهای هندسی زیر برای بیضوی‌های سست‌شدگی و استخراج برابر است؟

- (۱) حجم
- (۲) عرض
- (۳) ارتفاع
- (۴) خروج از مرکز

۳۴- کدام یک از عوامل زیر باعث کمتر شدن خروج از مرکز بیضوی استخراج در روش تخریب در طبقات فرعی می‌شود؟

- (۱) مواد دانه‌ریز
- (۲) مواد چسبنده و رطوبت
- (۳) مواد گرد با سطح صاف
- (۴) مواد با وزن مخصوص بالا

۳۵- در روش نمودار پایداری در طراحی کارگاه‌های باز، در چه زاویه‌ای بین درزه و جبهه کار ضریب B کمترین مقدار را خواهد داشت؟

- (۱) ۳۰ درجه
- (۲) ۴۵ درجه
- (۳) ۶۰ درجه
- (۴) ۹۰ درجه

۳۶- در روش نمودار پایداری در طراحی کارگاه‌های باز، کدام یک از موارد زیر منظور شده است؟

- (۱) شعاع هیدرولیکی و عدد پایداری
- (۲) عدد پایداری و MRMR
- (۳) شعاع هیدرولیکی و MRMR
- (۴) شعاع هیدرولیکی، عدد پایداری و MRMR

۳۷- در رده‌بندی سقف معادن زغال سنگ (CMRR)، کدام یک از عوامل زیر در نظر گرفته شده است؟

- (۱) لایه‌بندی، حساسیت به رطوبت، ناپیوستگی‌ها
- (۲) مقاومت فشاری تک‌محوره، لایه‌بندی، ناپیوستگی‌ها
- (۳) مقاومت فشاری تک‌محوره، حساسیت به رطوبت، لایه‌بندی
- (۴) مقاومت فشاری تک‌محوره، حساسیت به رطوبت، ناپیوستگی‌ها

۳۸- در محاسبه امتیاز سقف در معادن زغال سنگ (CMRR)، امتیاز پارامتر حساسیت به رطوبت در بهترین حالت

مربوط به چه نوع سنگ‌هایی است و مقدار آن کدام است؟

- (۱) سنگ‌های غیر حساس - ۱۵
- (۲) سنگ‌های به شدت حساس - ۱۵
- (۳) سنگ‌های غیر حساس - صفر
- (۴) سنگ‌های به شدت حساس - صفر

۳۹- در یک توده معدنی عیار متوسط ماده معدنی ۱ درصد است که ماده معدنی پس از تغلیظ به کنسانتره ۲۸ درصد

تبدیل می‌شود. درصد بازیابی واحد تغلیظ ۸۰٪ و میزان ترقیق (مخلوط شدن باطله با ماده معدنی) ۳۰ درصد

است. برای تولید یک تن کنسانتره چند تن ماده معدنی باید استخراج شود؟

- (۱) ۲۵
- (۲) ۵۰
- (۳) ۶۰
- (۴) ۷۵

۴۰- در یک معدن طلا با ظرفیت فراوری ۴۰۰ هزار تن در سال، تحلیل‌های اقتصادی برای دو حالت ترقیق ۱۵ درصد و ۲۰ درصد به شرح جدول زیر انجام شده است. محاسبات در کدام یک از ردیف‌ها غیرمنطقی است؟

| ترقیق ۲۰٪ | ترقیق ۱۵٪ | |
|------------|------------|----------------------------|
| ۴۰۰,۰۰۰ | ۴۰۰,۰۰۰ | (۱) درآمد سالانه |
| ۰/۲۶۹ | ۰/۳۰۴ | (۲) درصد بازیابی کارخانه |
| ۹۵ | ۹۴ | (۳) تناژ فراوری شده در سال |
| ۳۲,۰۰۰,۰۰۰ | ۳۶,۰۰۰,۰۰۰ | (۴) عیار متوسط پس از ترقیق |
| | | درآمد سالانه |

۴۱- در طراحی پایه در لایه‌های شیب‌دار نسبت به لایه‌های افقی کدام عبارت درست است؟

- (۱) در طراحی پایه‌ها در لایه‌های افقی، تنش‌های قائم مورد توجه قرار می‌گیرد ولی در طراحی پایه در لایه‌های شیب‌دار علاوه بر تنش‌های قائم، تنش‌های افقی هم در نظر گرفته می‌شود.
- (۲) در طراحی پایه‌ها در لایه‌های افقی، تنش‌های افقی مورد توجه قرار می‌گیرد ولی در طراحی پایه در لایه‌های شیب‌دار علاوه بر تنش‌های افقی، تنش‌های قائم هم در نظر گرفته می‌شود.
- (۳) در طراحی پایه‌ها در لایه‌های شیب‌دار، تنش‌های قائم مورد توجه قرار می‌گیرد ولی در طراحی پایه در لایه‌های افقی علاوه بر تنش‌های قائم، تنش‌های افقی هم در نظر گرفته می‌شود.
- (۴) در طراحی پایه‌ها در لایه‌های شیب‌دار، تنش‌های افقی مورد توجه قرار می‌گیرد ولی در طراحی پایه در لایه‌های افقی علاوه بر تنش‌های افقی، تنش‌های قائم هم در نظر گرفته می‌شود.

۴۲- لایه‌ای کم شیب به ضخامت ۲/۵ متر در عمق ۵۰۰ متری از سطح زمین قرار دارد و برای استخراج به روش

جبهه‌کار طولانی با طول جبهه‌کار ۲۰۰ متر آماده‌سازی می‌شود. میزان تغییر طول نسبی سازه در سطح زمین در

اثر نشست از رابطه $\epsilon = 0.8 \frac{S_{max}}{h}$ حداکثر نشست ممکن و h عمق لایه محاسبه می‌شود. اگر ضریب

نشست ۰/۸ باشد، ساختمانی به طول ۱۰۰ متر، در شرایط نشست کامل حداکثر چند سانتی‌متر تغییر طول خواهد داد؟

(۱) ۲۲/۵

(۲) ۲۵/۲

(۳) ۳۲

(۴) ۴۰

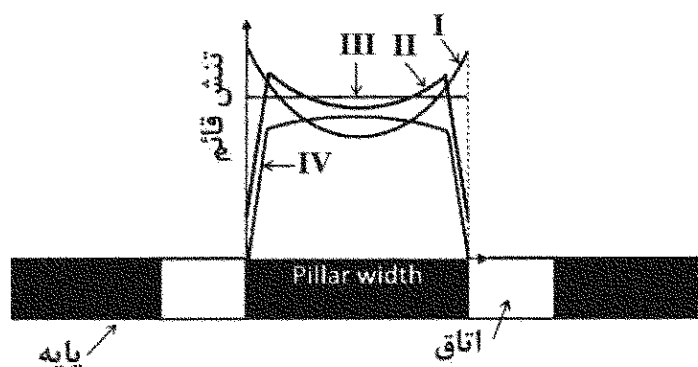
۴۳- کدام منحنی، توزیع تنش در پایه را طبق روش سطح تأثیر در طراحی پایه‌ها نشان می‌دهد؟

I (۱)

II (۲)

III (۳)

IV (۴)



۴۴- لایه‌ای به روش اتاق و پایه با پایه‌های مستطیل شکل استخراج می‌شود. طول و عرض پایه‌ها به ترتیب ۱۶ و ۹ متر و طول و عرض اتاق‌ها به ترتیب ۸ و ۶ متر است. حداکثر نسبت استخراج مورد انتظار در این معدن چند درصد خواهد بود؟

(۱) ۲۵

(۲) ۴۰

(۳) ۶۰

(۴) ۷۵

۴۵- در کدام یک از روش‌های پُر کردن، هزینه عملیاتی بیشتر است؟

(۱) پُرکننده سیمانی خمیری یا دوغابی

(۲) پُرکننده دوغابی

(۳) پُرکننده خمیری

(۴) پُرکننده سنگی

www.Sanjesh3.com